

**EGZAMIN  
POTWIERDZAJĄCY KWALIFIKACJE ZAWODOWE  
Styczeń 2008**

**ETAP PISEMNY**

**Instrukcja dla zdającego**

1. Sprawdź czy arkusz egzaminacyjny zawiera 26 stron. Ewentualny brak stron lub inne usterki zgłoś przewodniczącemu zespołu nadzorującego.
2. Do arkusza dołączona jest KARTA ODPOWIEDZI, na której:
  - wpisz symbol cyfrowy zawodu,
  - zamaluj kratkę z oznaczeniem wersji arkusza,
  - wpisz swój numer PESEL,
  - wpisz swoją datę urodzenia,
  - przyklej naklejkę ze swoim numerem PESEL w oznaczonym miejscu na karcie.
3. Arkusz egzaminacyjny składa się z dwóch części. Część I zawiera 50 zadań, część II 20 zadań.
4. Za każde poprawnie rozwiązane zadanie możesz uzyskać **1 punkt**.
5. Aby zdać etap pisemny egzaminu musisz uzyskać co najmniej 25 punktów z części I i co najmniej 6 punktów z części II.
6. Czytaj uważnie wszystkie zadania.
7. Rozwiązania zaznaczaj na KARCIE ODPOWIEDZI długopisem lub piórem z czarnym tuszem/atramentem.
8. Do każdego zadania podane są cztery możliwe odpowiedzi: A, B, C, D. Odpowiada im następujący układ kratek na KARCIE ODPOWIEDZI:

A	B	C	D
---	---	---	---

9. Tylko jedna odpowiedź jest poprawna.
10. Wybierz właściwą odpowiedź i zamaluj kratkę z odpowiadającą jej literą – np. gdy wybrałeś odpowiedź "A":

■	B	C	D
---	---	---	---

11. Staraj się wyraźnie zaznaczać odpowiedzi. Jeżeli się pomylisz i błędnie zaznaczysz odpowiedź, otocz ją kółkiem i zaznacz odpowiedź, którą uważasz za poprawną, np.

◉ ■	B	C	■
-----	---	---	---

12. Po rozwiązaniu testu sprawdź, czy zaznaczyłeś wszystkie odpowiedzi na KARCIE ODPOWIEDZI i wprowadziłeś wszystkie dane, o których mowa w punkcie 2 tej instrukcji.

**Pamiętaj, że oddajesz przewodniczącemu zespołu nadzorującego tylko KARTĘ ODPOWIEDZI.**

***Powodzenia!***

# Część I

## Zadanie 1.

Którą z opisanych osób klasyfikuje się w turystyce jako wycieczkowicza?

- A. Pana, który jedzie na kilka dni do Londynu żeby podpisać kontrakt.
- B. Panią, która leci samolotem na zakupy do Paryża.
- C. Kuracjusza przebywającego w sanatorium uzdrowskim.
- D. Studenta, który wyjechał do Anglii, w celu doskonalenia języka angielskiego.

## Zadanie 2.

Który z wymienionych wyjazdów **nie ma** charakteru turystycznego?

- A. Weekendowy wyjazd na narty.
- B. 1-dniowy pobyt krajoznawczy w Krakowie.
- C. 1,5- roczny staż studencki za granicą.
- D. Wyjazd uzdrowski trwający 2 tygodnie.

## Zadanie 3.

Imprezy kulturalne organizowane w miejscowości turystycznej są przykładem

- A. waloru specjalistycznego.
- B. waloru poznawczego.
- C. dostępności komunikacyjnej.
- D. infrastruktury obszaru.

## Zadanie 4.

Organizacja upowszechniająca krajoznawstwo i turystykę aktywną, której logo przedstawia rysunek, to

- A. Polskie Towarzystwo Turystyki Krajobrazowej.
- B. Polskie Towarzystwo Turystyki Kwalifikowanej.
- C. Polskie Towarzystwo Turystyczno Krajoznawcze.
- D. Polskie Towarzystwo Turystyki Krajowej.



Źródło: [www.pttk.pl](http://www.pttk.pl)

### Zadanie 5.

Turystyka polonijna jest odmianą turystyki

- A. motywacyjnej.
- B. etnicznej.
- C. kulturalnej.
- D. alternatywnej.

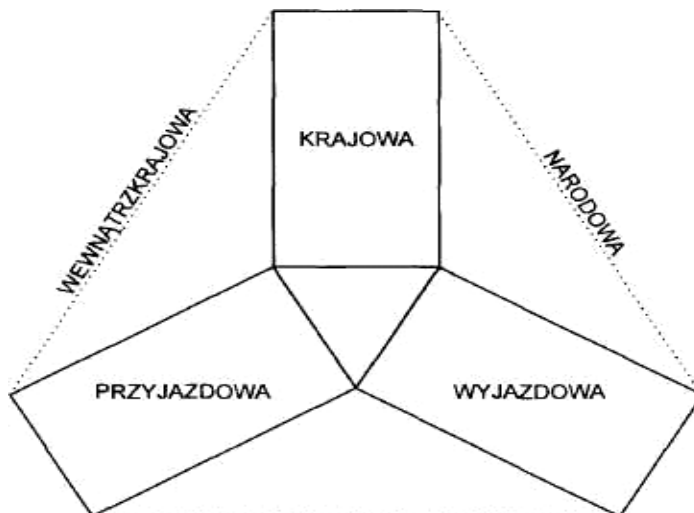
### Zadanie 6.

Które z wymienionych rodzajów turystyki zalicza się do turystyki kwalifikowanej?

- A. Piesza górską, kajakową, narciarską.
- B. Rowerową, stymulacyjną, trekking.
- C. Zdrowotną, wypoczynkową, rafting.
- D. Uzdrowiskową, krajoznawczą, żeglarską.

### Zadanie 7.

Która grupa turystów mieści się w turystyce narodowej zgodnie ze schematem?



Źródło: Podstawowe definicje i klasyfikacje w statystyce turystyki, IT, Warszawa 1992

- A. Obywatele danego kraju podróżujący po własnym kraju i wyjeżdżający za granicę.
- B. Obywatele danego kraju wyjeżdżający tylko za granicę.
- C. Obcokrajowcy przyjeżdżający zza granicy i osoby podróżujące po własnym kraju.
- D. Osoby podróżujące tylko po własnym kraju.

## Zadanie 8.

Elementem produktu turystycznego **nie jest**

- A. poziom wydatków turysty.
- B. infrastruktura turystyczna.
- C. tradycja i obrzędowość ludowa.
- D. atrakcyjność architektoniczna miejscowości.

## Zadanie 9.

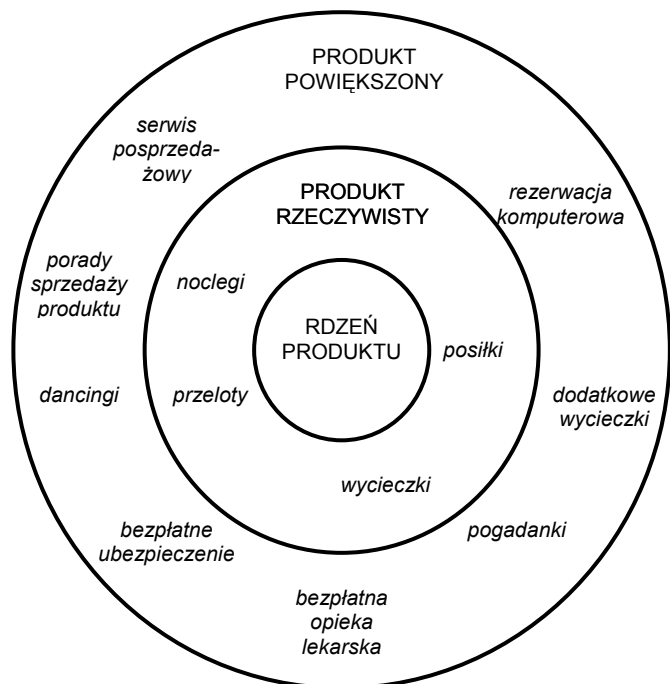
Impreza turystyczna to przykład produktu

- A. prostego.
- B. złożonego.
- C. potencjalnego.
- D. poszerzonego.

## Zadanie 10.

Który z wymienionych produktów, zgodnie ze schematem, jest produktem powiększonym w przypadku wczasów uzdrowiskowych?

- A. Płatna konsultacja specjalisty.
- B. Przejazd na zabiegi rehabilitacyjne.
- C. Wyżywienie dietetyczne.
- D. Impreza fakultatywna pełnopłatna.



Źródło: J. Altkorn, Marketing w turystyce. PWN, Warszawa 2000

### Zadanie 11.

W którym wierszu tabeli przedstawiono prawidłową klasyfikację wybranych walorów turystycznych?

	WALORY		
	WYPOCZYNKOWE	POZNAWCZE	SPECJALISTYCZNE
A.	Ostrów Tumski	Wybrzeże Bałtyku	Źródła mineralne w Świeradowie Zdroju
B.	Wybrzeże Bałtyku	Ostrów Tumski	Źródła mineralne w Świeradowie Zdroju
C.	Ostrów Tumski	Źródła mineralne w Świeradowie Zdroju	Wybrzeże Bałtyku
D.	Źródła mineralne w Świeradowie Zdroju	Wybrzeże Bałtyku	Ostrów Tumski

### Zadanie 12.

Budowla przedstawiona na rysunku jest znaną atrakcją turystyczną

- A. Hiszpanii.
- B. Grecji.
- C. Węgier.
- D. Francji.



Źródło: A.Twardecki Słownik sztuki starożytnej Grecji i Rzymu. [www.wiw.pl](http://www.wiw.pl)

### Zadanie 13.

W którym regionie Polski spotyka się najczęściej obiekty podobne w stylu do obiektu, przedstawionego na rysunku?

- A. Na Kaszubach.
- B. Na Śląsku.
- C. Na Mazowszu.
- D. Na Podhalu.



Źródło: [www.poland-tourism.pl](http://www.poland-tourism.pl)

### Zadanie 14.

Który szlak turystyczny jest zaznaczony na mapie?



Źródło: Z. Kruczek, S. Sacha – Geografia walorów turystycznych Polski

- A. Trakt Królewski.
- B. Szlak Orlich Gniazd.
- C. Szlak Renesansu.
- D. Trasa Piastowska.

### Zadanie 15.

W którym województwie wzrosła liczba obiektów noclegowych w latach od 2001 do 2004 zgodnie z danymi zawartymi w tabeli?

Obiekty zakwaterowania zbiorowego według województw w latach 2001-2004r.				
województwo	2001	2002	2003	2004
	liczba obiektów noclegowych			
dolnośląskie	883	819	782	727
małopolskie	898	820	878	873
mazowieckie	331	334	334	352
pomorskie	865	793	787	800
wielkopolskie	645	595	579	540
zachodniopomorskie	1 004	973	1 011	914

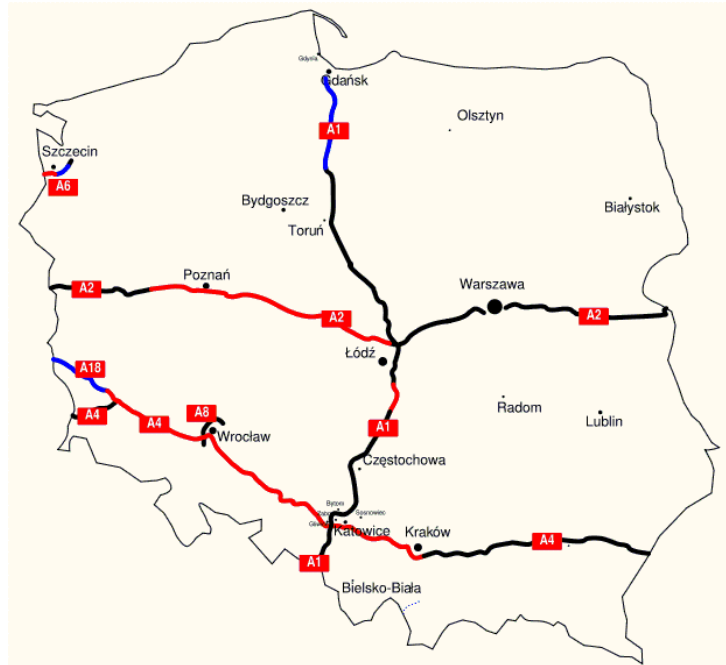
Źródło: GUS; Instytut Turystyki.

- A. Małopolskim.
- B. Mazowieckim.
- C. Zachodniopomorskim.
- D. Dolnośląskim.

## Zadanie 16.

Na rysunku przedstawiono sieć autostrad w Polsce: istniejących, w budowie i planowanych. W której części Polski będzie najwięcej autostrad po zrealizowaniu przedsięwzięć?

- A. Południowo – wschodniej.
- B. Południowo- zachodniej.
- C. Północno – wschodniej.
- D. Północno – zachodniej.

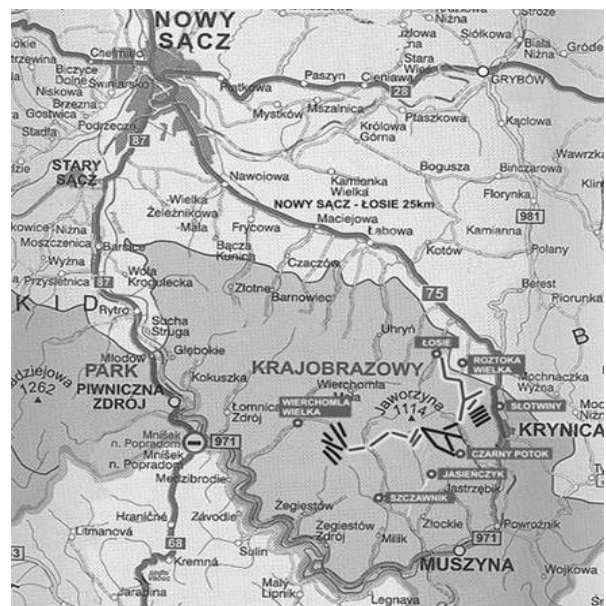


Źródło: [www.wikipedia.pl](http://www.wikipedia.pl)

## Zadanie 17.

W jakim regionie Polski znajdują się stacje narciarskie przedstawione na mapce?

- A. Tatr.
- B. Gorców.
- C. Beskidu Sądeckiego.
- D. Beskidu Żywieckiego.



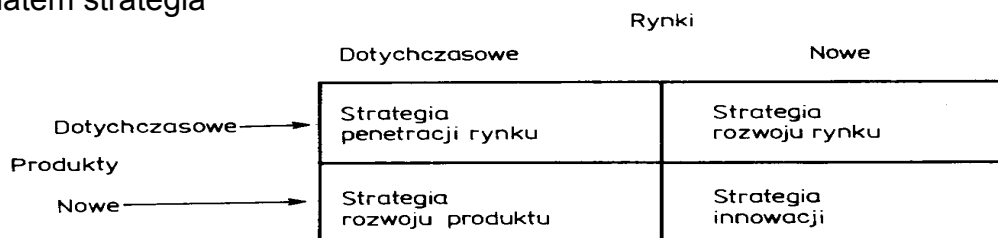
### Zadanie 18.

Stoisko wystawiennicze biura podróży na targach turystycznych to element

- A. public relations.
- B. promocji sprzedaży.
- C. sponsoringu realnego.
- D. promocji konsumenckiej.

### Zadanie 19.

Intensyfikacja dotychczasowej sprzedaży produktu na tym samym rynku to zgodnie ze schematem strategia



- A. penetracji rynku.
- B. rozwoju rynku.
- C. rozwoju produktu.
- D. innowacji.

### Zadanie 20.

Sprzedaż wycieczek w siedzibie biura podróży jest narzędziem

- A. reklamy.
- B. promocji uzupełniającej.
- C. sprzedaży osobistej.
- D. propagandy.

### Zadanie 21.

Która z wymienionych grup turystów wybierze najchętniej obiekt turystyczny opisany w katalogu przedstawionymi piktogramami?

- A. Seniorzy.
- B. Biznesmeni.
- C. Rodzice z dziećmi.
- D. Młodzi, aktywni ludzie.





## Zadanie 22.

W jakim terminie powinien wylecieć z Warszawy klient biura podróży, jeśli chce zapłacić najniższą cenę za tygodniowy pobyt w hotelu Faros Village?

LCA	dopłata/zniżka w €/os.	Rejs z <sup>1)</sup>	Czas lotu <sup>2)</sup>	Czas pobytu	Kwiecień			Maj				Czerwiec					Lipiec				Sierpień					Wrzesień				Październik				
					6	13	20	27	4	11	18	25	1	8	15	22	29	6	13	20	27	3	10	17	24	31	7	14	21	28	5	12	19	26
Warszawa	00,-	LO	03:00	1-4 tyg.	-	-	-	S	S	A	A	A	B	B	B	B	D	D	D	C	D	D	D	D	B	B	C	C	B	B	A	-	-	-
LCA	dopłata/zniżka w €/os.	Rejs z <sup>1)</sup>	Czas lotu <sup>2)</sup>	Czas pobytu	Kwiecień				Maj				Czerwiec				Lipiec				Sierpień					Wrzesień				Październik				
					5	12	19	26	3	10	17	24	31	7	14	21	28	5	12	19	26	2	9	16	23	30	6	13	20	27	4	11	18	25
Berlin - Tegel	+25,-	AB	03:20	1-4 tyg.	A	C	S	S	S	A	A	B	B	B	B	B	D	D	D	C	D	D	D	D	B	B	C	C	C	C	B	B	A	A
Berlin - Schönefeld	+35,-	DE	03:20	1-4 tyg.	A	C	S	S	S	A	A	B	B	B	B	B	D	D	D	C	D	D	D	D	B	B	C	C	C	C	B	B	A	A
Drezno	+10,-	AB	03:20	1-4 tyg.	A	C	S	S	S	A	A	B	B	B	B	B	D	D	D	C	D	D	D	D	B	B	C	C	C	C	B	B	A	A

Źródło: Neckerman Reisen, Cennik Lato 2001

POL NAH LCA Kod oferty	Wyposażenie	Wyżywienie	Ilość osób	Basen	Zniżki dla dzieci	Stale ceny dla dzieci	Ceny z przelotem w EUR za osobę na 1 lub 2 tygodnie															EZ
							S			A			B			C			D			
							1 tydz.	2 tyg.	nast. dzień	1 tydz.	2 tyg.	nast. dzień	1 tydz.	2 tyg.	nast. dzień	1 tydz.	2 tyg.	nast. dzień	1 tydz.	2 tyg.	nast. dzień	
<b>2701</b>	<b>Larnaca</b>	<b>Transfer z lotniska autokarem ok. 30 minut</b>																				
<b>27315A</b>	<b>Club Faros Village NNN</b>	W katalogu strona 22																				
<b>Zniżka przy wcześniejszej rezerwacji. Ceny obowiązujące przy rezerwacji do 31.03.2001</b>																						
2N	D,WC,KA,TE	HP	2	●	⊗		1024	1488	67	1091	1585	71	1110	1612	72	1177	1717	78	1232	1794	81	-
1P	1/2 jako 1/1	D,WC,KA,TE	HP	1	●		1309	2058	107	1376	2155	112	1395	2182	113	1462	2287	118	1517	2364	121	-
2N	All Inclusive	D,WC,KA,TE	AI	2	●	⊗	1328	2096	110	1395	2193	114	1414	2220	116	1481	2325	121	1536	2402	124	-
1P	1/2 = 1/1 All incl.	D,WC,KA,TE	AI	1	●		1613	2666	151	1680	2763	155	1699	2790	156	1766	2895	162	1821	2972	165	-

Źródło: Neckerman Reisen, Cennik Lato 2001

- A. 4 maja.
- B. 11 maja.
- C. 28 września.
- D. 5 października.

### Zadanie 23.

Na podstawie danych zawartych w tabeli można stwierdzić, że polskie biura podróży zajmujące się turystyką przyjazdową do Polski powinny szczególnie promować wycieczki - pakiety

Organizacja podróży i pobytu turystów zagranicznych przyjeżdżających do Polski w 2004 r.					
Usługa / Państwa	Rosja, Białoruś, Ukraina	Niemcy	15 UE (bez Niemiec)	Nowe kraje członkowskie UE	Wybrane kraje zamorskie
Pakiet	2,1%	6,2%	13,4%	1,1%	23,9%
Zakupiono część usług	1,3%	0,7%	0,5%	0,0%	0,0%
Tylko rezerwacja	4,4%	16,7%	11,1%	1,7%	14,1%
Samodzielnie	91,5%	76,0%	74,8%	97,1%	62,0%

Źródło: Instytut Turystyki

- A. w Rosji, Białorusi, Ukrainie.
- B. w Niemczech.
- C. w nowych krajach członkowskich UE.
- D. w krajach zamorskich.

### Zadanie 24.

Biuro podróży „Omega” z Torunia wysyła grupę 44 dorosłych osób do Chorwacji do hotelu „Mila” w terminie 3-16.07.2008 r. Adres hotelu: 87009 Betina, Chorwacja. Grupa będzie zakwaterowana w pokojach 2-osobowych, korzystać z dwóch posiłków dziennie, a bezpłatnie z zaplecza rekreacyjnego hotelu. Grupa zaczyna pobyt od obiadokolacji 04.07.2007, a kończy- śniadaniem 15.07.2007. Co należy wpisać w rubrykę 1 st.service?



Term of stay/termin ..... VOUCHER NO .....  
..... Grupa nr .....  
Receiving party/kontrahent .....

Country, place/kraj, miejscowość .....  
For/dla ..... adults/dorośli ..... pax/osób  
..... children/dzieci ..... pax/osób  
Accommodation in ..... Structure of rooms .....  
zakwaterowanie ..... struktura pokoi  
Board/wyżywienie ..... 1 st. service ..... Last service .....  
Others/Inne .....

Data .....

.....  
pieczętka i podpis wystawiającego

page 1

Źródło: praca zbiorowa pod red. Z. Kruczka – Obsługa ruchu turystycznego, Krakowska Szkoła Hotelarska. Proksenia, wyd. III, Kraków 2004

- A. HB.
- B. BB.
- C. Śniadanie.
- D. Obiadokolacja.

### Zadanie 25.

Ile koron duńskich osoba dorosła z sześciolatnim dzieckiem zapłaci w marcu za bilet ze Świnoujścia do Kopenhagi?

Osoba(y)	13.01.2008-31.05.2008 1.09.2008-12.01.2009		1.09.2008-12.01.2008	
	Cena w DKK >»	Cena w DKK >» i <<	Cena w DKK >»	Cena w DKK >» i <<
dorośli	380	610	410	640
dzieci poniżej 7 lat	bezpłatnie	bezpłatnie	bezpłatnie	bezpłatnie
dzieci i młodzież poniżej 16 lat, uczniowie i studenci poniżej 26 lat, reńciści, emeryci, posiadacze kart Inter-Rail	310	490	340	520
indywidualny bilet okrężny ważny 4 dni (bilet nie podlega zwrotowi) możliwość powrotu w relacji Ystad- Świnoujście		490		520
bilet rodzinny maksimum 5 osób, rodzic(e) z dziećmi do lat 18	770	1 250	840	1 320
<b>Ceny grupowe</b>				
cena za osobę przy minimum 15 osobach płacących	200	350	230	380

/DKK- korona duńska, jednostka monetarna Danii, wysp Owczych oraz Grenlandii/

- A. 690 DKK
- B. 640 DKK
- C. 610 DKK
- D. 380 DKK

### Zadanie 26.

Przy sprzedaży, której z wymienionych imprez turystycznych popyt rośnie wraz ze wzrostem ceny?

- A. Kolonii dla dzieci.
- B. Luksusowych wycieczek.
- C. Wczasów leczniczych.
- D. Imprez pielgrzymkowych.

### Zadanie 27.

Na sukcesywny wzrost wielkości ruchu pasażerskiego w polskich portach lotniczych ma wpływ przede wszystkim

- A. spadek liczby zagranicznych turystów przyjeżdżających do Polski.
- B. wzrost liczby zagranicznych turystów przyjeżdżających do Polski.
- C. spadek liczby turystów polskich i zagranicznych podróżujących samolotami.
- D. wzrost liczby turystów polskich i zagranicznych podróżujących samolotami.

### Zadanie 28.

Jeżeli zwiększa się liczba obiektów noclegowych, to

- A. wzrasta popyt turystyczny.
- B. wzrasta podaż turystyczna.
- C. spada popyt turystyczny.
- D. spada podaż turystyczna.

### Zadanie 29.

Na którym przejściu granicznym zanotowano w 2004 roku największy spadek przyjazdów cudzoziemców zgodnie z danymi podanymi w tabeli?

Przyjazdy cudzoziemców do Polski i wyjazdy zagraniczne Polaków według przejść granicznych w 2004 roku				
I-XII 2004	wyjazdy	zmiana	przyjazdy	zmiana
Federacja Rosyjska	1106,4	16,6%	672,0	8,4%
Republika Litewska	388,0	39,0%	1504,3	13,3%
Republika Białoruś	282,9	-1,6%	3765,2	-9,1%
Ukraina	2107,4	26,6%	4143,3	-5,7%
Republika Słowacka	4688,3	-3,9%	3531,4	37,3%
Republika Czeska	13259,1	-14,7%	13127,4	6,3%
Granica morska	595,5	-45,5%	760,4	-43,5%
Lotniska	1881,6	37,2%	1539,2	30,2%

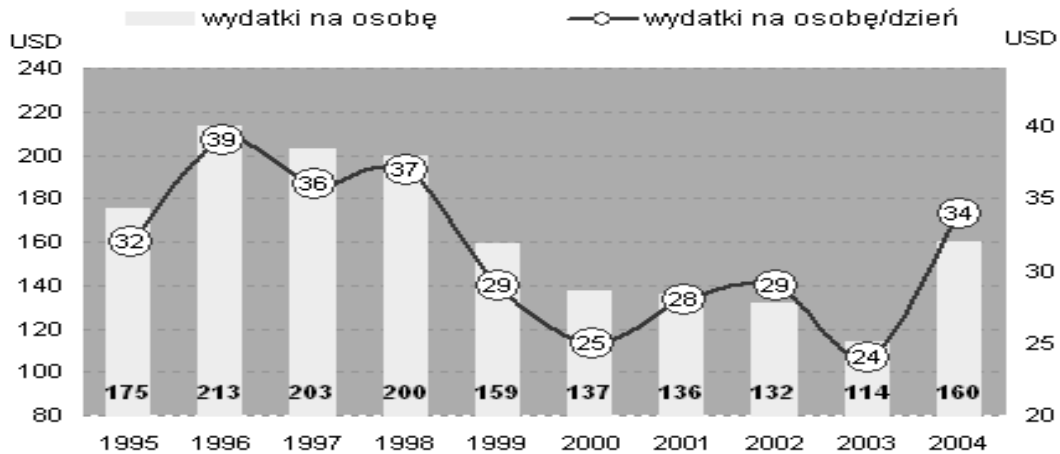
Źródło: GUS; Instytut Turystyki.

- A. Z Białorusią.
- B. Z Ukrainą.
- C. Na granicy zachodniej.
- D. Na granicy morskiej.

### Zadanie 30.

Na podstawie poniższego wykresu można stwierdzić, że wydatki turystów przebywających w Polsce

wydatki turystów w Polsce w USD



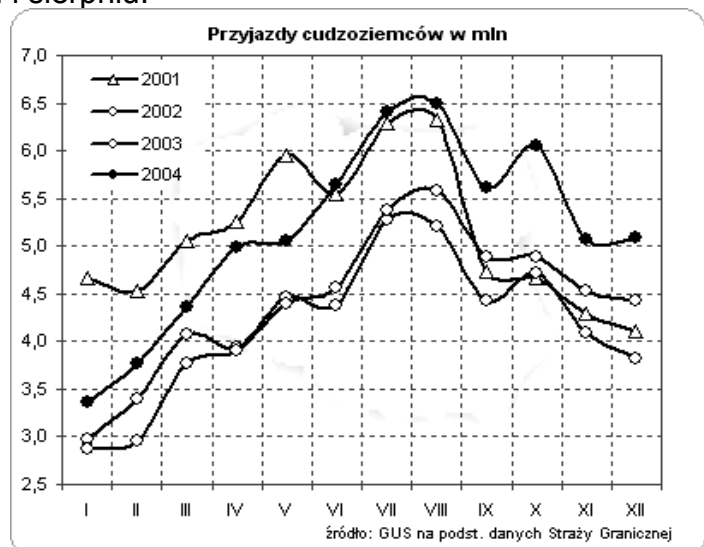
Źródło: [www.intur.com.pl](http://www.intur.com.pl)

- A. w 2004 roku były większe, niż w 2003 roku.
- B. od 1995 do 2004 roku sukcesywnie rosną.
- C. od 1995 do 2004 roku sukcesywnie spadają.
- D. w 2004 roku były mniejsze, niż w 2003 roku.

### Zadanie 31.

Z analizy wykresu wynika, że liczba cudzoziemców przyjeżdżających do Polski w latach 2001-2004

- A. miała tendencję wzrostową zawsze od stycznia do maja.
- B. była najmniejsza w styczniu 2004 roku.
- C. była największa w grudniu 2003 roku.
- D. była największa zawsze w lipcu i sierpniu.



źródło: GUS na podst. danych Straży Granicznej

Źródło: [www.intur.com.pl](http://www.intur.com.pl)

### Zadanie 32.

W miejscu oznaczonym symbolem przedstawionym na rysunku można



- A. kupić niedrogi nocleg.
- B. uzyskać informacje o godzinach otwarcia muzeów.
- C. zjeść regionalny posiłek.
- D. wypożyczyć rower lub inny sprzęt rekreacyjny.

### Zadanie 33.

Schroniska turystyczne są to obiekty

- A. zlokalizowane przy szlakach turystycznych, świadczące szeroki zakres usług.
- B. zlokalizowane przy szlakach turystycznych i świadczące minimalny zakres usług.
- C. przystosowane do samoobsługi i przeznaczone głównie dla grup turystycznych.
- D. przystosowane do samoobsługi i przeznaczone głównie dla młodzieży szkolnej.

### Zadanie 34.

Największa, a zarazem najstarsza w Polsce agencja świadcząca usługi doradcze i finansowe w zakresie inwestycji turystycznych, której logo przedstawiono poniżej, to



Źródło: [www.part.com.pl](http://www.part.com.pl)

- A. Polska Agencja Rozwoju Transportu.
- B. Polska Agencja Rozwoju Turystyki.
- C. Polska Agencja Ruchu Turystycznego.
- D. Państwowa Agencja Ruchu Turystycznego.

### Zadanie 35.

Polska Organizacja Turystyczna jest odpowiedzialna za

- A. rekomendację obiektów turystycznych.
- B. kategoryzację obiektów noclegowych.
- C. nadawanie uprawnień pilotom i przewodnikom.
- D. promocję Polski za granicami kraju.

### **Zadanie 36.**

Do zadań touroperatora należy

- A. realizowanie i rozliczenie zamówionych usług.
- B. zawieranie umów o świadczenie usług turystycznych na zlecenie klienta.
- C. stałe pośredniczenie w zawieraniu umów na rzecz usługodawców (hotelarzy) w zamian za prowizję.
- D. tworzenie imprez turystycznych, czyli opracowywanie programów, zamawianie świadczeń, zatrudnianie pilotów, organizowanie transportu.

### **Zadanie 37.**

Biuro podróży organizuje wycieczkę zagraniczną dla grupy liczącej powyżej 40 osób. Grupie tej musi zapewnić opiekę

- A. przewodnika turystycznego.
- B. kwalifikowanego pilota wycieczek.
- C. rezydenta, bez wymogu uprawnień pilota wycieczek.
- D. przedstawiciela biura podróży z uprawnieniami ratownika medycznego.

### **Zadanie 38.**

Dowód zapewnienia pokrycia kosztów powrotu klientów do kraju i zwrotu im wpłat w razie niewykonania zobowiązań umownych musi posiadać

- A. organizator turystyki.
- B. agent turystyczny.
- C. pilot wycieczki.
- D. przewodnik oprowadzający grupę.

### **Zadanie 39.**

Slogan „*Zasłużyłeś na ten wypoczynek*” zamieszczony w reklamie oferty biura turystycznego na okładce czasopisma dla młodzieży szkolnej zadziała najlepiej na

- A. studentów na stażu.
- B. młodzież nastoletnią.
- C. matki z małymi dziećmi.
- D. biznesmenów w wieku 45-50 lat.

## Zadanie 40.

Najważniejszą formą reklamy narciarskich obozów młodzieżowych będą

- A. billboardy na lotniskach.
- B. kolorowe reklamy w czasopismach typu „Wprost”.
- C. ulotki rozdawane na przystankach autobusowych.
- D. kolorowe plakaty w szkołach, klubach młodzieżowych.

## Zadanie 41.

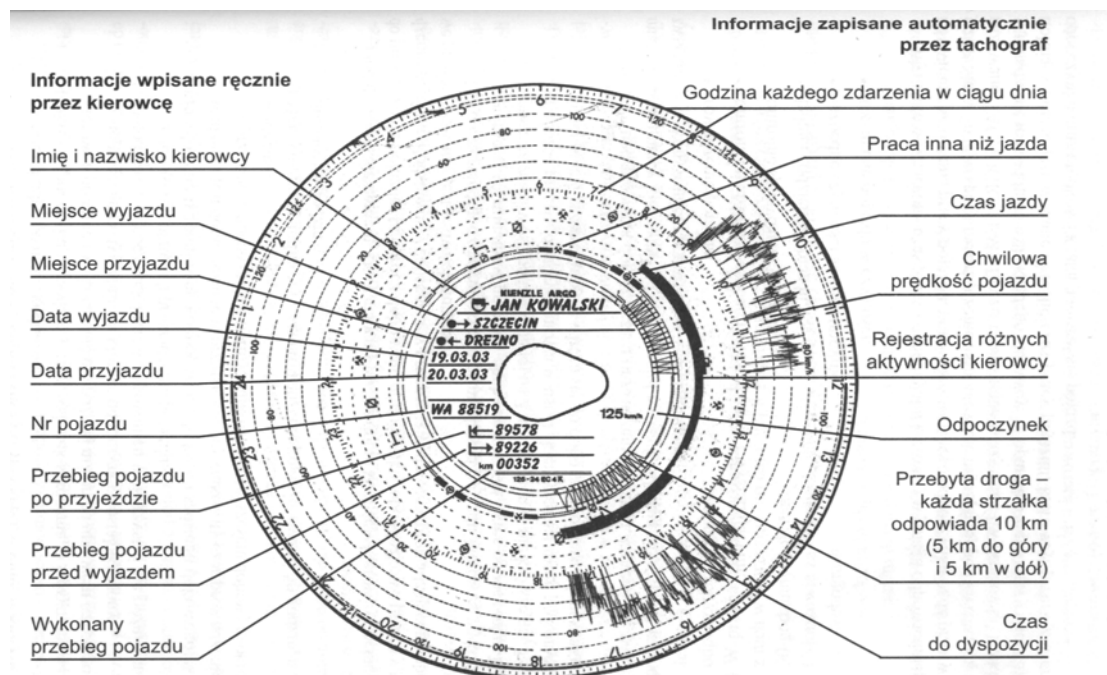
Przedstawiony piktogram oznacza



- A. drogę ewakuacyjną.
- B. wyjście ewakuacyjne.
- C. najbliższe schody.
- D. drogę do hydrantu lub gaśnicy.

## Zadanie 42.

Dokument przedstawiony na rysunku musi posiadać



- A. wyłącznie kierowca autokaru wiozącego dzieci lub młodzież.
- B. każdy kierowca autokaru turystycznego.
- C. wyłącznie załoga kierowców pracujących na jednej zmianie.
- D. załoga kierowców jadących z jedną grupą turystów.



### **Zadanie 43.**

Którego z terenów **nie można** zwiedzać z grupą turystów?

- A. Rezerwatu geologicznego.
- B. Rezerwatu ścisłego.
- C. Parku narodowego.
- D. Parku dendrologicznego.

### **Zadanie 44.**

Instytucja zajmująca się ochroną środowiska to

- A. Polska Izba Turystyki.
- B. Inspekcja Ochrony Środowiska.
- C. Centrum Badań Środowiska.
- D. Polska Organizacja Turystyki.

### **Zadanie 45.**

Najważniejszym aktem prawnym w zakresie turystyki w Polsce jest

- A. ustawa o usługach turystycznych.
- B. rozporządzenie o usługach turystycznych.
- C. ustawa o biurach podróży.
- D. rozporządzenie o biurach podróży.

### **Zadanie 46.**

Konwencja Ateńska w turystyce odnosi się do transportu

- A. lotniczego.
- B. morskiego.
- C. kolejowego.
- D. autokarowego.

### **Zadanie 47.**

Zgodnie z obowiązującymi przepisami przeciwpożarowymi pracownikom obiektu turystycznego należy

- A. ograniczyć dostęp do wyłączników i tablic rozdzielczych prądu elektrycznego.
- B. zapewnić dostęp do wyłączników i tablic rozdzielczych prądu elektrycznego.
- C. zamknąć drzwi ewakuacyjne w sposób uniemożliwiający ich natychmiastowe otwarcie.
- D. składować różne przedmioty w przejściach ewakuacyjnych, aby poprawić komunikację w magazynie.

### **Zadanie 48.**

Jaki środek należy zastosować do gaszenia pożaru w magazynie katalogów, materiałów reklamowych i prospektów?

- A. Wodę.
- B. Piasek.
- C. Gaśnicę pianową.
- D. Gaśnicę proszkową.

### **Zadanie 49.**

Termin *incoming* stosowany w turystyce dotyczy

- A. turystyki kongresowej.
- B. imprez rodzinnych.
- C. turystyki przyjazdowej.
- D. wycieczek szkolnych.

### **Zadanie 50.**

Zgodnie z regulacją prawa unijnego obowiązującego również w Polsce, kierowca po 4 ½ godzinach prowadzenia pojazdu ma obowiązek wykorzystać przerwę co najmniej

- A. 15-minutową, jednorazowo lub w częściach nie krótszych niż 5 minut.
- B. 45-minutową, jednorazowo lub w częściach nie krótszych niż 5 minut.
- C. 45-minutową, jednorazowo lub w częściach nie krótszych niż 15 minut.
- D. 30-minutową, jednorazowo lub w częściach nie krótszych niż 15 minut.

## Część II

### Zadanie 51.

Osoba fizyczna prowadząca jednoosobowe przedsiębiorstwo podejmuje i wykonuje działalność gospodarczą w oparciu o przepisy ustawy

- A. Kodeks pracy.
- B. Prawo spółdzielcze.
- C. Kodeks spółek handlowych.
- D. o swobodzie działalności gospodarczej.

### Zadanie 52.

Umowa o pracę to

- A. oświadczenie woli pracownika do świadczenia pracy.
- B. oświadczenie woli pracodawcy do zatrudnienia pracownika.
- C. zgodne oświadczenie woli pracownika i pracodawcy.
- D. zobowiązanie pracodawcy do wynagradzania pracownika.

### Zadanie 53.

Naczelnik urzędu skarbowego to organ administracji rządowej właściwy w zakresie


- A. nadania numeru identyfikacji podatkowej.
- B. rejestracji indywidualnej działalności gospodarczej.
- C. zgłoszenia do ubezpieczeń społecznych i ubezpieczenia zdrowotnego.
- D. nadania statystycznego numeru identyfikacyjnego podmiotów gospodarki narodowej.

### Zadanie 54.

Do dóbr konsumpcyjnych **nie zalicza się**

- A. żywności.
- B. odzieży.
- C. sprzętu RTV.
- D. maszyn produkcyjnych.

### Zadanie 55.

<p><u>Warszawa</u>, dnia <u>15 marca 2007</u> r. Na <u>15.000</u> PLN <u>2 lutego 2008 r.</u> zapłać za ten weksel na zlecenie <u>LADONA KONSULTING Sp. z o.o.</u> sumę <u>piętnastu tysięcy złotych</u></p>	
<p><u>JAN KOWALSKI</u> <u>ul. DŁUGA 6 KRAKÓW</u> <u>d. os. AB777777</u> Płatny w <u>Warszawie</u></p>	<p>JAN KOWALSKI </p>

Przedstawiony dokument to

- A. czek.
- B. weksel.
- C. faktura VAT.
- D. polecenie przelewu.

### Zadanie 56.

Akcja jest papierem wartościowym potwierdzającym

- A. udzielenie pożyczki.
- B. zaciągnięcie pożyczki.
- C. udział w kapitale spółki akcyjnej.
- D. udział w kapitale spółki z ograniczoną odpowiedzialnością.

### Zadanie 57.

W rejonowym urzędzie pracy **nie można**

- A. zarejestrować bezrobotnego.
- B. skorzystać z pośrednictwa pracy.
- C. zapisać się na kurs szkolenia zawodowego.
- D. zarejestrować działalności gospodarczej na własny rachunek.

### Zadanie 58.

Na podstawie zamieszczonego fragmentu, określ rodzaj umowy.

UMOWA...

W dniu... pomiędzy zamawiającym... a wykonawcą... została zawarta umowa następującej treści:

1. Zamawiający zamawia wykonanie, a wykonawca zobowiązuje się wykonać dzieło polegające na...
2. Termin rozpoczęcia dzieła strony ustaliły na...
3. Odbiór dzieła nastąpi w siedzibie zamawiającego...
4. Wykonawcy za wykonanie dzieła przysługuje...  
(...)

- A. Najmu.
- B. O dzieło.
- C. Zlecenia.
- D. Sprzedaży.

### Zadanie 59.

Absolwent technikum podjął w dniu 1 stycznia 2008 r. pierwszą pracę na podstawie umowy o pracę w wymiarze  $\frac{1}{2}$  etatu. Na dzień 1 lipca 2008 r. będzie mógł skorzystać z urlopu wynoszącego

#### Wyciąg z Kodeksu pracy

Art.153

Pracownik podejmujący pracę po raz pierwszy, w roku kalendarzowym, w którym podjął pracę, uzyskuje prawo do urlopu z upływem każdego miesiąca pracy w wymiarze  $\frac{1}{12}$  wymiaru urlopu przysługującego mu po przepracowaniu roku.

Art.154

Wymiar urlopu wynosi:

- 20 dni roboczych, jeżeli pracownik jest zatrudniony krócej niż 10 lat,
- 26 dni roboczych, jeżeli pracownik jest zatrudniony co najmniej 10 lat.

Wymiar urlopu dla pracownika zatrudnionego w niepełnym wymiarze czasu pracy ustala się proporcjonalnie do wymiaru czasu pracy pracownika.

- A. 5 dni.
- B. 7 dni.
- C. 10 dni.
- D. 13 dni.

## Zadanie 60.

Która osoba zostanie zarejestrowana w powiatowym urzędzie pracy jako bezrobotna?

- A. Elżbieta Kos - pobiera zasiłek przedemerytalny.
- B. Ewelina Nowak - przebywa na urlopie macierzyńskim.
- C. Tadeusz Mądry - emeryt, poszukuje dodatkowej pracy.
- D. Czesław Kowalski - absolwent technikum handlowego, gotowy podjąć pracę w pełnym wymiarze czasu pracy.

## Zadanie 61.

Hurtownia odzieży „Szyk” Sp. z o.o. poszukuje  
kandydata na stanowisko  
**SPRZEDAWCY**

Wymagania firmy:

- wykształcenie średnie handlowe,
- doświadczenie w branży odzieżowej,
- dyspozycyjność.

Mile widziana znajomość języka angielskiego.

Oferty prosimy składać....

Wymagania stawiane przez przedsiębiorstwo spełnia

- A. Zofia – ukończyła technikum handlowe, od dwóch lat pracuje w hurtowni odzieży, dyspozycyjna.
- B. Adam – ukończył liceum ogólnokształcące, od dwóch lat pracuje w hurtowni odzieży, dyspozycyjny.
- C. Alina – ukończyła technikum ekonomiczne, od dwóch lat pracuje w sklepie odzieżowym, dyspozycyjna.
- D. Wiesław – ukończył technikum handlowe, od roku pracuje w sklepie ze sprzętem AGD, zna język niemiecki.

## Zadanie 62.

Podatnik prowadzący działalność gospodarczą opodatkowaną w formie karty podatkowej zamierza złożyć w urzędzie skarbowym zeznanie podatkowe. Którą deklarację podatkową powinien wypełnić?

**PIT-36** przeznaczony jest dla osób, które osiągnęły dochody (poniosły straty) z działalności gospodarczej opodatkowanej na zasadach ogólnych, z której rozliczyły się w trakcie roku samodzielnie.

**PIT-36L** zeznanie o wysokości osiągniętego w roku poprzednim dochodu (poniesionej straty) z pozarolniczej działalności gospodarczej opodatkowanej stawką liniową 19%.

**PIT-16A** przeznaczony dla podatników karty podatkowej; roczna deklaracja o wysokości składki na powszechne ubezpieczenie w NFZ zapłaconej i odliczonej od karty podatkowej w poszczególnych miesiącach.

**PIT-28** przeznaczony dla osób prowadzących działalność opodatkowaną ryczałtem od przychodów ewidencjonowanych.

- A. PIT-36
- B. PIT-36L
- C. PIT-16A
- D. PIT-28

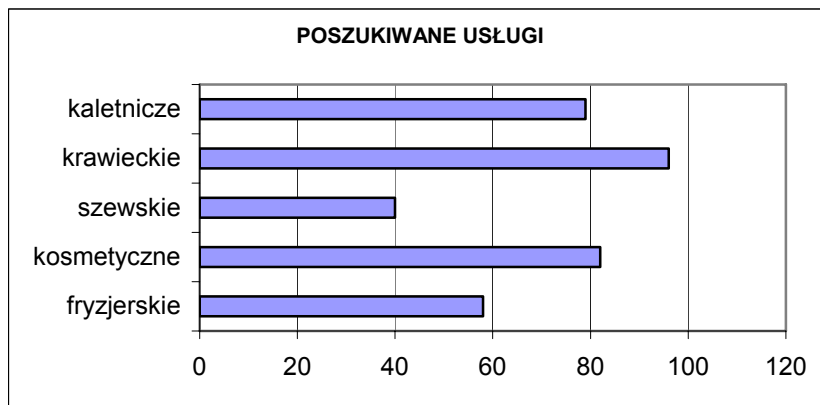
## Zadanie 63.

Zgodnie z Kodeksem spółek handlowych wspólnicy spółki jawnej mają równy udział w zyskach niezależnie od wniesionych wkładów. Jaka kwota zysku przypadnie każdemu z czterech wspólników, jeżeli spółka wypracowała w ciągu roku obrotowego dochód w wysokości 10 000 zł, od którego zobowiązana jest zapłacić podatek w wysokości 2 000 zł?

- A. 2 000 zł
- B. 4 000 zł
- C. 6 000 zł
- D. 8 000 zł

## Zadanie 64.

Urząd Pracy przeprowadził na lokalnym rynku badania dotyczące zapotrzebowania na usługi. Wyniki badań będą wykorzystane przy ocenie ryzyka związanego z otwieraniem nowych punktów usługowych. Na podstawie zamieszczonego wykresu wybierz przedsiębiorstwo usługowe, które ma najmniejsze szanse utrzymania się na rynku.



- A. Gabinet kosmetyczny.
- B. Zakład kaletniczy.
- C. Zakład krawiecki.
- D. Zakład szewski.

## Zadanie 65.

Pracownik zawarł umowę o pracę na okres próbny od 01.12.2007 roku do 31.12.2007 roku. Na podstawie zamieszczonego fragmentu Kodeksu pracy, określ jaki okres wypowiedzenia przysługiwał pracownikowi.

Art. 34.

Okres wypowiedzenia umowy o pracę zawartej na okres próbny wynosi:

- 1) 3 dni robocze, jeżeli okres próbny nie przekracza 2 tygodni,
- 2) 1 tydzień, jeżeli okres próbny jest dłuższy niż 2 tygodnie, (...)
- 3) 2 tygodnie, jeżeli okres próbny wynosi 3 miesiące.

- A. 3 dni robocze.
- B. 1 tydzień.
- C. 2 tygodnie.
- D. 3 miesiące.



### Zadanie 66.

Przedstawiciel handlowy jest zatrudniony w wydawnictwie na podstawie umowy agencyjnej. Otrzymuje wynagrodzenie w formie prowizji wynoszącej 1% wartości sprzedaży. W maju bieżącego roku sprzedał książki o wartości 150 000 zł. W jakiej wysokości otrzyma wynagrodzenie za ten miesiąc?

- A. 75 zł
- B. 150 zł
- C. 750 zł
- D. 1 500 zł

### Zadanie 67.

Pracownik zamieszkały w Krakowie, jest zatrudniony w dwóch zakładach pracy w centrum miasta. Na podstawie zamieszczonych informacji, określ kwotę rocznych kosztów uzyskania przychodu przysługujących temu pracownikowi.

W 2007 roku koszty uzyskania przychodów z tytułu stosunku pracy wynoszą za rok podatkowy nie więcej niż:

- 1 302,00 zł, jeżeli podatnik uzyskuje przychody od jednego zakładu pracy,
- 1 953,23 zł, jeżeli podatnik uzyskuje przychody od więcej niż jednego zakładu pracy,
- 1 627,56 zł, jeżeli miejsce zamieszkania podatnika jest położone poza miejscowością, w której znajduje się zakład pracy,
- 2 441,54 zł, jeżeli podatnik uzyskuje przychody od więcej niż jednego zakładu pracy, a miejsce zamieszkania znajduje się poza miejscowością, w której pracuje.

- A. 2 441,54 zł
- B. 1 953,23 zł
- C. 1 627,56 zł
- D. 1 302,00 zł

### Zadanie 68.

Pracodawca, który rozwiązał umowę o pracę zobowiązany jest do niezwłocznego wydania pracownikowi

- A. akt osobowych.
- B. świadectwa pracy.
- C. legitymacji ubezpieczeniowej.
- D. oświadczenia o rozwiązaniu umowy o pracę.

## Zadanie 69.

Przedstawiony odcinek polecenia przelewu przeznaczony jest dla

Zakład Ubezpieczeń Społecznych Należności z tytułu składek		Ubezpieczenia społeczne - 51 Ubezpieczenie zdrowotne - 52 FP i FGSP - 53	Typ identyfikatora uzupełniającego R - REGON P - PESEL 1 - Dowód osobisty 2 - Paszport	
Polecenie przelewu / wpłata	L.k. Nr rachunku ZUS	2 8 1 0 1 0 1 0 2 3 2 6 - 1 3 9 - 5 2		
		Kwota		
		WP * PLN 5 4 1 , 0 9 - - - - -		
	L.k. Nr rachunku zleceniodawcy / kwota słownie	5 7 1 0 9 0 1 5 2 2 1 6 6 4 6 2 3 - 1 2 8 - 0 0 - 0		
	Nazwa skrócona płatnika lub nazwisko i imię płatnika	R E S E T 2 S P . Z O . O .		
	Nazwa skrócona płatnika lub nazwisko i imię płatnika cd.			
	NIP płatnika	Typ id. uzup.	Identyfikator uzupełniający płatnika	
	1 2 3 4 5 6 7 8 9 0	R	1 2 3 4 5 6 7 8 9	
	Typ wpł.	Deklaracja	Nr dekl.	Typ wpł.: S - składka za 1 m-c M - składka dłuższa niż 1 m-c U - układ ratalny T - odroczenie terminu D - opłata dodatkowa E - egzekucja K - przyspy pokontrolne
	S	2 0 0 1 0 1	0 1	
Nazwisko, imię i adres wpłacającego lub pieczęć, data i podpis(y) zleceniodawcy		Oplata:	00	

- A. banku.
- B. odbiorcy.
- C. zleceniodawcy.
- D. Zakładu Ubezpieczeń Społecznych.

## Zadanie 70.

Przedstawiony fragment CV napisała osoba, która ubiega się o pracę w hotelu na stanowisku

- A. kelnera.
- B. barmana.
- C. kucharza.
- D. kierownika recepcji.

(...)

**WYKSZTAŁCENIE**  
2000-2003 r. Zespół Szkół Gastronomicznych w Łodzi-  
zawód kucharz

**KURSY I SZKOLENIA**  
2004 r. kurs żywienia zbiorowego (200 godzin)

**DOŚWIADCZENIE ZAWODOWE**  
2003-2005 r. praca w pensjonacie „Promyk” w Łodzi (pomoc  
kuchenna)

(...)

