

Zawód: **technik hotelarstwa**
Symbol cyfrowy zawodu: **341[04]**
Wersja arkusza: **X**

*Arkusz zawiera informacje
prawnie chronione do
momentu rozpoczęcia
egzaminu*

341[04]-0X-112

Czas trwania egzaminu: 120 minut

EGZAMIN POTWIERDZAJĄCY KWALIFIKACJE ZAWODOWE Czerwiec 2011

Etap pisemny

Instrukcja dla zdającego

1. Sprawdź, czy arkusz egzaminacyjny zawiera 19 stron. Ewentualny brak stron lub inne usterki zgłoś przewodniczącemu zespołu nadzorującego.
2. Do arkusza dołączona jest KARTA ODPOWIEDZI, na której:
 - wpisz symbol cyfrowy zawodu,
 - zamaluj kratkę z oznaczeniem wersji arkusza,
 - wpisz swój numer PESEL*,
 - wpisz swoją datę urodzenia,
 - przyklej naklejkę ze swoim numerem PESEL w oznaczonym miejscu na karcie.
3. Arkusz egzaminacyjny składa się z dwóch części. Część I zawiera 50 zadań, część II 20 zadań.
4. Za każde poprawnie rozwiązane zadanie możesz uzyskać 1 punkt.
5. Aby zdać etap pisemny egzaminu, musisz uzyskać co najmniej 25 punktów z części I i co najmniej 6 punktów z części II.
6. Czytaj uważnie wszystkie zadania.
7. Rozwiązania zaznaczaj na KARCIE ODPOWIEDZI długopisem lub piórem z czarnym tuszem/atramentem.
8. Do każdego zadania podane są cztery odpowiedzi: A, B, C, D. Odpowiada im następujący układ kratek na KARCIE ODPOWIEDZI:

A	B	C	D
---	---	---	---

9. Tylko jedna odpowiedź jest poprawna.
10. Wybierz właściwą odpowiedź i zamaluj kratkę z odpowiadającą jej literą – np. gdy wybrałeś odpowiedź "A":

<input checked="" type="checkbox"/>	B	C	D
-------------------------------------	---	---	---

11. Staraj się wyraźnie zaznaczać odpowiedzi. Jeżeli się pomylisz i błędnie zaznaczysz odpowiedź, otocz ją kółkiem i zaznacz odpowiedź, którą uważasz za poprawną, np.

<input checked="" type="checkbox"/>	B	C	<input checked="" type="checkbox"/>
-------------------------------------	---	---	-------------------------------------

12. Po rozwiązaniu testu sprawdź, czy zaznaczyłeś wszystkie odpowiedzi na KARCIE ODPOWIEDZI i wprowadziłeś wszystkie dane, o których mowa w punkcie 2 tej instrukcji.

**Pamiętaj, że oddajesz przewodniczącemu zespołu nadzorującego tylko
KARTĘ ODPOWIEDZI**

Powodzenia!

* w przypadku braku numeru PESEL - seria i numer paszportu lub innego dokumentu potwierdzającego tożsamość.

Część I

Zadanie 1.

Bielizna stołowa upięta wzdłuż obwodu stołu w sposób przedstawiony na zdjęciu to

- A. skirting.
- B. serweta.
- C. molton.
- D. obrus.



Zadanie 2.

Miejsce Obsługi Podróżnych jest

- A. placem przeznaczonym do postoju i odpoczynku w czasie podróży.
- B. drogą, wzdłuż której zlokalizowane są stacje paliw, parking oraz punkty gastronomiczne.
- C. obiektem noclegowym położonym przy autostradzie przeznaczonym do odpoczynku podróżnych.
- D. terenem wydzielonym w pasie drogowym wyposażonym w miejsca postojowe oraz urządzenia służące zaspokajaniu potrzeb podróżnych.

Zadanie 3.

Termin przebukowanie oznacza w hotelarstwie

- A. udostępnienie gościom hotelowej biblioteki.
- B. zarezerwowanie większej liczby miejsc, niż hotel posiada.
- C. zaoferowanie gościom mniejszej liczby miejsc, niż hotel posiada.
- D. umożliwienie gościom korzystanie z zarezerwowanego pokoju i z hotelowej biblioteki.

Zadanie 4.

Gościem hotelowym w rozumieniu prawa jest osoba, która zawarła umowę

- A. hotelową.
- B. deliktową.
- C. agencyjną.
- D. leasingową.

Zadanie 5.

Turystyką kwalifikowaną jest turystyka:

- A. żeglarska, narciarska, rowerowa.
- B. kajakowa, rowerowa, uzdrowiskowa.
- C. zdrowotna, edukacyjna, trampingowa.
- D. wypoczynkowa, krajoznawcza, trekkingowa.

Zadanie 6.

Obiekty noclegowe zlokalizowane przy węzłach komunikacyjnych, charakteryzujące się krótkim pobytem gości, to hotele

- A. rezydenckie.
- B. rekreacyjne.
- C. tranzytowe.
- D. uzdrowiskowe.

Zadanie 7.

Obiekty hotelarskie umożliwiające nocleg między innymi w domkach turystycznych to

- A. kempingi
- B. domy turysty.
- C. pola biwakowe.
- D. domy wycieczkowe.

Zadanie 8.

Zgodnie z ustawą o usługach turystycznych, schroniska to obiekty zlokalizowane

- A. przy szlakach turystycznych i świadczące minimalny zakres usług.
- B. przy szlakach turystycznych i dostosowane do samoobsługi klientów.
- C. poza obszarami zabudowanymi i przeznaczone tylko dla grup turystycznych.
- D. poza obszarami zabudowanymi i przeznaczone tylko dla turystów indywidualnych.

Zadanie 9.

Jednym z zadań statutowych Polskiego Towarzystwa Schronisk Młodzieżowych jest

- A. upowszechnianie turystyki jako formy wypoczynku i rekreacji młodzieży.
- B. propagowanie turystyki campingowej i carawaningowej.
- C. propagowanie turystyki kwalifikowanej wśród młodzieży.
- D. upowszechnianie turystyki i krajoznawstwa.

Zadanie 10.

Która międzynarodowa organizacja skupia i integruje narodowe zrzeszenia hotelarskie wszystkich krajów świata?

- A. Organizacja Narodów Zjednoczonych.
- B. Międzynarodowe Zrzeszenie Hoteli i Restauracji.
- C. Światowa Organizacja Turystyki Narodów Zjednoczonych.
- D. Konfederacja Krajowych Stowarzyszeń Hoteli i Restauracji.

Zadanie 11.

Najniższy standard domów wycieczkowych oznacza się

- A. ***gwiazdkami.
- B. cyfrą rzymską III.
- C. cyfrą rzymską I.
- D. *gwiazdką.

Zadanie 12.

Zgodnie z wymaganiami kategoryzacyjnymi w obiektach hotelarskich usługa sprzedaży lub udostępniania prasy codziennej gościom jest obowiązkowa dla

- A. hoteli 3* i moteli 3*
- B. hoteli 3* i moteli 4*
- C. hoteli 4* i moteli 3*
- D. hoteli 4* i moteli 4*

Zadanie 13.

Usługi typu SPA w obiektach hotelarskich są związane

- A. z zabiegami leczniczymi oraz rehabilitacją.
- B. z zabiegami prozdrowotnymi oraz poprawą urody.
- C. z usługami rekreacyjnymi i zabiegami leczniczymi.
- D. z usługami kulturalnymi i usługami rozrywkowymi.

Zadanie 14.

Usługi gastronomiczne wliczone w cenę noclegu oznaczone symbolem HB obejmują

- A. obiad.
- B. śniadanie.
- C. śniadanie, obiad i kolację.
- D. śniadanie i obiadokolację.

Zadanie 15.

Wszystkie motele, bez względu na kategorię, mają obowiązek świadczenia usług: budzenia, przechowywania bagażu gości, motoryzacyjnych, udzielania pierwszej pomocy w nagłych wypadkach oraz

- A. dostarczania prasy.
- B. podawania śniadań.
- C. codziennej zmiany pościeli i ręczników.
- D. room service czynny minimum 12 godzin na dobę.

Zadanie 16.

Usługa bagażowa w hotelu 3* jest

- A. odpłatna.
- B. sezonowa.
- C. fakultatywna.
- D. komplementarna.

Zadanie 17.

Hotel *Zosia* wprowadził możliwość kontaktu z gośćmi za pomocą komunikatora internetowego Skype. Jakie narzędzie marketingowe zastosował hotel?

- A. Promocję pośrednią.
- B. Dystrybucję pośrednią.
- C. Dystrybucję mieszaną.
- D. Promocję bezpośrednią.

Zadanie 18.

Położony w górach pensjonat organizuje bal sylwestrowy. Jaką formę reklamy powinien zastosować, aby zaprosić na bal okolicznych mieszkańców i turystów, którzy przyjechali do tej miejscowości?

- A. Mailing i foldery.
- B. Plakaty i kolportaż ulotek.
- C. Reklamę w Internecie i prasie.
- D. Reklamę telewizyjną i radiową.

Zadanie 19.

Hotel Bohemia uruchomił program wierności SENIOR PASS. Polega on na udzielaniu stałego rabatu przy kolejnym pobycie dla gości będących już na emeryturze. Zastosowany instrument marketingowy ma za zadanie

- A. budować dobry wizerunek hotelu w środowisku.
- B. poszerzać istniejący rynek docelowy.
- C. wspierać finansowo klientów hotelu.
- D. budować trwałą więź z klientami hotelu.

Zadanie 20.

Pracownik recepcji hotelowej, który stara się zachowywać empatycznie wobec klientów, będzie stosował przede wszystkim komunikację

- A. bezpośrednią.
- B. hierarchiczną.
- C. pośrednią.
- D. krytyczną.

Zadanie 21.

Zachowanie gościa, który w rozmowie z recepcjonistą, obawiając się ośmieszenia lub kompromitacji, chaotycznie przedstawia swoje potrzeby, przejawia się przede wszystkim

- A. skrepowaniem.
- B. asertywnością.
- C. sarkazmem.
- D. ignorancją.

Zadanie 22.

Która cecha zachowań jest szczególnie istotna dla pracownika hotelu prowadzącego negocjacje z siecią biur podróży?

- A. Uległość.
- B. Stanowczość.
- C. Przebiegłość.
- D. Elastyczność.

Zadanie 23.

Cena usług hotelarskich wzrosła o 10% przy elastyczności cenowej popytu wynoszącej 2,0. O ile zmieni się zapotrzebowanie na usługi na rynku hotelarskim?

- A. O 20%
- B. O 10%
- C. O 5%
- D. O 2%

Zadanie 24.

Jakie zmiany na rynku hotelarskim w Polsce może spowodować znaczna obniżka cen usług hotelarskich w krajach śródziemnomorskich?

- A. Wzrost popytu.
- B. Spadek popytu.
- C. Spadek podaży.
- D. Wzrost podaży.

Zadanie 25.

W restauracji hotelowej część potraw przygotowywano w obecności gości, wykorzystując wózek kelnerski. Jaką metodę obsługi zastosowano?

- A. Francuską.
- B. Niemiecką.
- C. Angielską.
- D. Rosyjską.

Zadanie 26.

Gość hotelowy zamówił śniadanie do pokoju. Kelner po wejściu do niego powinien

- A. ustawić tacę na stoliku, przyjąć należność i oczekiwać napiwku.
- B. ustawić tacę na stoliku, życzyć smacznego i uprzejmie pożegnać gościa.
- C. ustawić tacę we wskazanym miejscu, porozmawiać z gościem i życzyć smacznego.
- D. ustawić tacę we wskazanym miejscu, zapytać o dodatkowe życzenia i podać rachunek do podpisu.

Zadanie 27.

Pokojowa, sprzątając pokój zajęty przez gościa w hotelu 4*, powinna codziennie między innymi: wytrzeć kurze w pokoju i sprzątnąć łazienkę oraz

- A. zmienić pościel.
- B. nie zmieniać pościeli.
- C. zmienić pościel i wytrzeć kurze w szafie.
- D. wytrzeć kurze w szafie i nie zmieniać pościeli.

Zadanie 28.

Procedura „Otwarcie rachunku” dla gości jest elementem

- A. wymeldowania.
- B. zameldowania.
- C. rezerwacji.
- D. pobytu.

Zadanie 29.

Podczas procedury zameldowania gościa typu VIP w hotelu należy przywitać go oraz

- A. wręczyć kartę pobytu i klucze, odprowadzić do pokoju.
- B. poprosić o dokument tożsamości, wręczyć kartę pobytu.
- C. poprosić o wypełnienie karty meldunkowej, wręczyć klucze.
- D. wpisać dane gościa do księgi meldunkowej, życzyć miłego pobytu.

Zadanie 30.

Pan Malik przesłał do hotelu zaliczkę, rezerwując pokój na rodzinny wyjazd. Recepcjonista powinien odnotować to w grafiku jako rezerwację

- A. kredytową.
- B. przedwstępną.
- C. gwarantowaną.
- D. niegwarantowaną.

Zadanie 31.

Przedstawiony dokument recepcjonista przygotowuje przed przyjazdem gości typu

Data

- A. VIP.
- B. grupowego.
- C. biznesowego.
- D. standardowego.

Welcom gift/Wstawka	Room/Pokój	Name/Nazwisko
Słodycze lub owoce		
Słodycze i owoce		
Owoce i wino		
Wino, owoce, list powitalny		

Zadanie 32.

Recepcjonista zamelduje grupę w hotelu na podstawie

- A. dostarczonej listy uczestników.
- B. potwierdzenia rezerwacji.
- C. karty zamówienia.
- D. voucheru.

Zadanie 33.

Przedstawiony dokument jest elementem wyposażenia stanowiska

- A. dysponenta.
- B. sommeliera.
- C. kierownika pralni.
- D. inspektora służby pięt.

Cardholder		
	Express Check-Out	
Establishment	Please charge my account to the credit card imprinted here. Please tick if you require an itemised hotel statement to be sent to the address we hold on your file. <input type="checkbox"/>	
Signature	Room No	Check-out Date

Zadanie 34.

W recepcji hotelu gość życzy sobie zapłacić za pobyt kartą płatniczą. Jest to możliwe, jeśli recepcja dysponuje

- A. komputerem z drukarką.
- B. drukami faktury VAT.
- C. terminalem POS.
- D. kasą fiskalną.

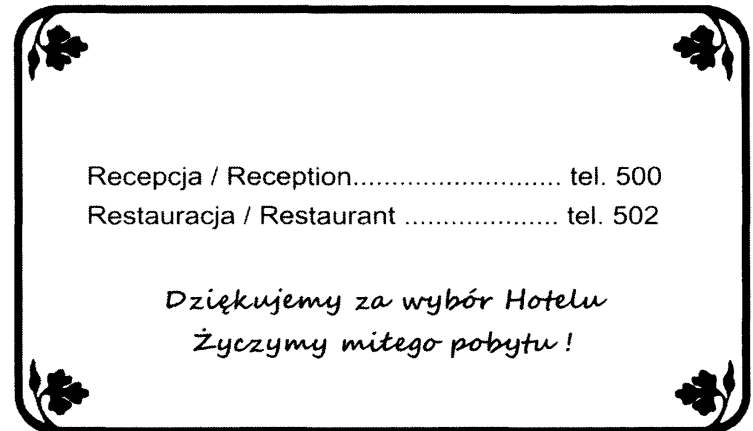
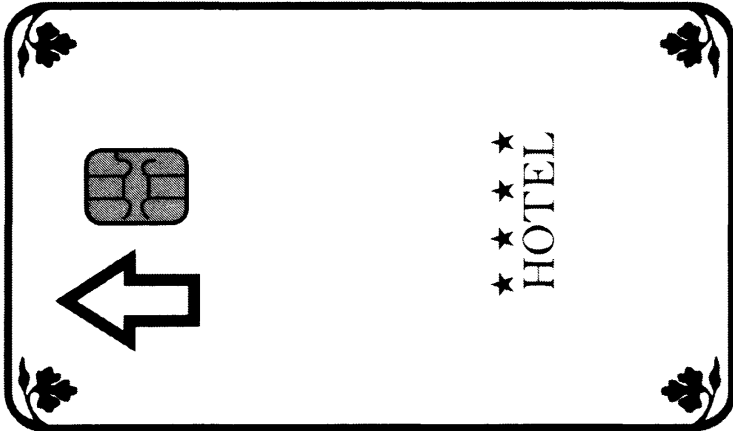
Zadanie 35.

Pomocnik kelnerski służy do

- A. przechowywania rezerwy zastawy stołowej.
- B. przechowywania butelek z winami.
- C. rozliczania zamówienia.
- D. przenoszenia sztucców.

Zadanie 36.

Który z pracowników hotelu dysponuje zamieszczonym na zdjęciu przedmiotem?



- A. Recepcjonista.
- B. Pokojowa.
- C. Barman.
- D. Kelner.

Zadanie 37.

Śniadanie złożone z bułeczek drożdżowych, masła, miodu lub dżemu, kawy lub herbaty jest charakterystyczne dla kuchni

- A. włoskiej.
- B. francuskiej.
- C. niemieckiej.
- D. hiszpańskiej.

Zadanie 38.

Zupą charakterystyczną dla kuchni polskiej jest

- A. żur.
- B. cebulowa.
- C. gulaszowa.
- D. pomidorowa.

Zadanie 39.

Planowane jest uroczyste otwarcie nowego hotelu „Wodnik”. Który instrument promocji powinien być zastosowany przez ten hotel, aby informacja o nowym obiekcie dotarła do jak największej liczby potencjalnych klientów?

- A. Reklama internetowa.
- B. Foldery reklamowe.
- C. Kolportaż ulotek.
- D. Plakaty.

Zadanie 40.

Na aktywizację usług hotelarskich wpływa

- A. wzrost cen usług hotelarskich.
- B. promocja hotelu na targach.
- C. spadek dochodów konsumentów.
- D. mała atrakcyjność oferty hotelu.

Zadanie 41.

W celu pozyskania klientów hotel z nowoczesnym zapleczem treningowym dla zawodowych sportowców zastosuje przede wszystkim

- A. reklamę radiową.
- B. promocję lokalną.
- C. reklamę telewizyjną.
- D. promocję branżową.

Zadanie 42.

W hotelowej sali konsumpcyjnej znajduje się 60 miejsc. Średni czas spożywania posiłku wynosi 20 minut. Oblicz ile obiadów można maksymalnie wydać od godziny 13:00 do godziny 15:00.

- A. 180 obiadów.
- B. 240 obiadów.
- C. 360 obiadów.
- D. 480 obiadów.

Zadanie 43.

W pensjonacie sprzedano 2 pokoje w cenie jednostkowej 200 zł, 2 pokoje w cenie jednostkowej 300 zł i 2 pokoje w cenie jednostkowej 100 zł. Jaką wartość będzie miał wskaźnik średniej rzeczywistej ceny pokoju ADR?

- A. 100,00 zł
- B. 150,00 zł
- C. 200,00 zł
- D. 250,00 zł

Zadanie 44.

Obłożenie pensjonatu w I półroczu wynosiło 40%. Jakie będzie obłożenie w II półroczu, jeśli średnie obłożenie obiektu w skali roku wynosi 60%?

- A. 80%
- B. 60%
- C. 40%
- D. 30%

Zadanie 45.


Hotel Kasia dysponuje 150 stałymi miejscami noclegowymi oraz 30 miejscami na dostawkach. Aktualnie z eksploatacji wyłączono 50 stałych miejsc noclegowych. Potencjał usługowy obiektu wynosi

- A. 180 miejsc noclegowych.
- B. 150 miejsc noclegowych.
- C. 130 miejsc noclegowych.
- D. 100 miejsc noclegowych.

Zadanie 46.

Przedstawionym na zdjęciu piktogramem należy oznakować w hotelu kierunek

- A. drogi ewakuacyjnej do wyjścia w lewo.
- B. do wyjścia na teren rekreacyjny w lewo.
- C. do wyjścia ewakuacyjnego w prawo.
- D. drogi przeciwpożarowej w prawo.



Zadanie 47.

Hotel ponosi odpowiedzialność za rzecz wniesioną przez gościa

- A. od momentu zameldowania.
- B. od momentu rezerwacji noclegu.
- C. w okresie objętym umową hotelową.
- D. w okresie do 14 dni po jego wyjeździe.

Zadanie 48.

Jaką kwotę odszkodowania może otrzymać gość hotelowy za rzecz skradzioną przez pracownika hotelu z depozytu w recepcji, jeżeli wartość skradzionej rzeczy wynosiła 20 000 zł, a cena noclegu za jedną dobę wyniosła 100 zł?

- A. 5 000 zł
- B. 10 000 zł
- C. 15 000 zł
- D. 20 000 zł

Zadanie 49.

W razie powstania zagrożenia pożarowego najważniejszym etapem akcji ratunkowo-gaśniczej jest

- A. usunięcie elementów łatwopalnych.
- B. odcięcie możliwych źródeł zapłonu.
- C. ewakuacja ludzi z miejsca zagrożenia.
- D. ewakuacja ludzi do innego obiektu hotelowego.

Zadanie 50.

Jednym z praktycznych sposobów zabezpieczenia hotelu przed zagrożeniem terrorystycznym jest

- A. wprowadzenie monitoringu.
- B. zatrudnienie brygady antyterrorystycznej.
- C. zainstalowanie bramki do wykrywania metali.
- D. wynajęcie psa wyszkolonego do wykrywania zagrożeń.

Część II

Zadanie 51.

Osobowość prawną posiada spółka

- A. jawna.
- B. akcyjna.
- C. partnerska.
- D. komandytowa.

Zadanie 52.

Który rodzaj umowy jest regulowany przepisami Kodeksu pracy?

- A. Umowa o dzieło.
- B. Umowa zlecenie.
- C. Umowa o pracę nakładczą.
- D. Umowa o pracę na czas określony.

Zadanie 53.

Pracownikiem, w rozumieniu przepisów Kodeksu pracy jest osoba, która

- A. prowadzi własną działalność gospodarczą.
- B. wykonuje biżuterię damską na podstawie umowy o dzieło.
- C. prowadzi korespondencję biurową na podstawie umowy o pracę.
- D. rozdaje 40 godzin tygodniowo ulotki reklamowe na podstawie umowy zlecenia.

Zadanie 54.

W razie upadłości banku zwrot, do określonej wysokości, środków pieniężnych zgromadzonych przez klientów na rachunkach w tym banku gwarantuje

- A. Narodowy Bank Polski.
- B. Rada Polityki Pieniężnej.
- C. Bankowy Fundusz Gwarancyjny.
- D. Fundusz Gwarantowanych Świadczeń Pracowniczych.

Zadanie 55.

Przedsiębiorca będący płatnikiem podatku VAT, sprzedając swoje towary osobie fizycznej, jest zobowiązany do wystawienia na jej żądanie

- A. czeku.
- B. faktury.
- C. weksła.
- D. paragonu.

Zadanie 56.

Podatnik, który uzyskał w roku podatkowym przychody ze sprzedaży akcji, wypełni formularz podatkowy

- A. PIT - 28
- B. PIT - 38
- C. PIT - 36
- D. PIT - 39

Zadanie 57.

Na podstawie zamieszczonego przepisu wskaż sytuację, w której kupujący nie może odstąpić od umowy.

Wyciąg z Ustawy o ochronie niektórych praw konsumentów oraz o odpowiedzialności za szkodę wyrządzoną przez produkt niebezpieczny.

Art.7.1. Konsument, który zawarł umowę na odległość, może od niej odstąpić bez podania przyczyn, składając stosowne oświadczenie na piśmie, w terminie dziesięciu dni [...].

- A. Jan – kupił buty w sklepie internetowym.
- B. Marta – kupiła jesionkę w supermarkecie.
- C. Tomasz – zakupił spodnie w katalogu wysyłkowym.
- D. Maria – zamówiła torebkę, korzystając ze sprzedaży przez telefon.

Zadanie 58.

Na podstawie informacji zawartych w tabeli, określ kwotę zasiłku dla bezrobotnych, jaką otrzyma w drugim miesiącu jego pobierania, osoba legitymująca się 8-letnim stażem pracy.

Zasiłki dla bezrobotnych

	<i>Okres zatrudnienia uprawniający do pobierania zasiłku</i>		
	<i>mniej niż 5 lat</i>	<i>od 5 do 20 lat</i>	<i>powyżej 20 lat</i>
<i>w okresie pierwszych trzech miesięcy pobierania zasiłku</i>	<i>593,70 zł</i>	<i>742,10 zł</i>	<i>890,60 zł</i>
<i>w okresie kolejnych miesięcy pobierania zasiłku</i>	<i>466,20 zł</i>	<i>582,70 zł</i>	<i>699,30 zł</i>

- A. 582,70 zł
- B. 593,70 zł
- C. 742,10 zł
- D. 890,60 zł

Zadanie 59.

Sprzedany dwa dni wcześniej aparat telefoniczny jest dotknięty wadą, która uniemożliwia aktywowanie wszystkich jego funkcji przewidzianych instrukcją. Sprzedawca dysponuje innymi aparatami telefonicznymi o tych samych parametrach. W tej sytuacji kupujący może żądać

- A. obniżenia ceny albo zwrotu gotówki.
- B. obniżenia ceny lub wymiany aparatu telefonicznego na nowy.
- C. zwrotu gotówki albo wymiany aparatu telefonicznego na nowy.
- D. nieodpłatnej naprawy lub wymiany aparatu telefonicznego na nowy.

Zadanie 60.

Na podstawie danych zamieszczonych w tabeli wskaż przedsiębiorstwo, które osiągnęło najwyższy wynik finansowy.

Wyszczególnienie	Przedsiębiorstwo			
	A.	B.	C.	D.
Przychody	100 000 tys.	120 000 tys.	130 000 tys.	140 000 tys.
Koszty uzyskania przychodów	80 000 tys.	90 000 tys.	130 000 tys.	150 000 tys.

Zadanie 61.

Pani Joanna Nowak została zatrudniona na dwumiesięczny okres próbny. Okres wypowiedzenia tej umowy wynosi

Wyciąg z Kodeksu pracy

- A. 1 miesiąc.
- B. 2 tygodnie.
- C. 1 tydzień.
- D. 3 dni robocze.

Art. 34. Okres wypowiedzenia umowy o pracę na okres próbny wynosi: 1) 3 dni robocze, jeżeli okres próbny nie przekracza 2 tygodni, 2) 1 tydzień, jeżeli okres próbny jest dłuższy niż 2 tygodnie, 3) 2 tygodnie, jeżeli okres próbny wynosi 3 miesiące

Zadanie 62.

Podatnik w roku podatkowym osiąga przychody ze świadczenia usług parkingowych oraz świadczenia usług edukacyjnych polegających na udzielaniu lekcji języka angielskiego na godziny. Opłaca zryczałtowany podatek dochodowy w formie ryczału od przychodów ewidencjonowanych. Na podstawie danych zawartych w tabeli określ, według jakich stawek podatnik zapłaci podatek dochodowy.

Wyciąg z ustawy o zryczałtowanym podatku dochodowym od niektórych przychodów osiąganych przez osoby fizyczne

L.p.	Stawki ryczału	Wybrane rodzaje przychodu
1.	20%	Przychody osiągane w zakresie wolnych zawodów
2.	17%	Przychody ze świadczenia usług: <ul style="list-style-type: none">– pośrednictwa w sprzedaży pojazdów mechanicznych– parkingowych– w zakresie zarządzania nieruchomościami– wynajmu samochodów osobowych– doradztwa w zakresie sprzętu komputerowego
3.	8,5%	Przychody z działalności: <ul style="list-style-type: none">– gastronomicznej w zakresie sprzedaży napojów alkoholowych o zawartości alkoholu powyżej 1,5%– polegającej na, wytwarzaniu przedmiotów z materiału powierzzonego przez zamawiającego
4.	5,5%	Przychody z działalności: <ul style="list-style-type: none">– wytwórczej, robót budowlanych lub w zakresie przewozów ładunków taborem samochodowym o ładowności powyżej 2 ton
5.	3%	Przychody z działalności: <ul style="list-style-type: none">– gastronomicznej– usługowej w zakresie handlu– rybaków morskich i zalewowych w zakresie sprzedaży ryb i innych surowców pochodzących z własnych połowów

- A. 3% i 8,5%
- B. 3% i 17%
- C. 8,5% i 20%
- D. 17% i 20%

Zadanie 63.

Na podstawie zamieszczonego fragmentu listy płac, określ wynagrodzenie netto pracownika.

Fragment listy płac pracownika (wybrane elementy)

- A. 1 413,48 zł
- B. 1 570,48 zł
- C. 1 725,80 zł
- D. 2 000,00 zł

Wynagrodzenie brutto	Ubezpieczenia społeczne (składki opłacane przez pracownika)	Ubezpieczenie zdrowotne (składka pobrana)	Zaliczka na podatek dochodowy
2 000,00 zł	274,20 zł	155,32 zł	157,00 zł

Zadanie 64.

Wskaż minimalną wysokość kapitału zakładowego potrzebnego do założenia spółki z ograniczoną odpowiedzialnością.

- A. 500,00 zł
- B. 5 000,00 zł
- C. 50 000,00 zł
- D. 100 000,00 zł

Zadanie 65.

Przedsiębiorstwo handlowe kupuje dywany od producenta w cenie netto 100 zł za jedną sztukę, następnie sprzedaje je, doliczając marżę w wysokości 10% oraz podatek VAT (wg stawki 23%). Określ cenę zbytu jednego dywanu.

- A. 100,00 zł
- B. 110,00 zł
- C. 123,00 zł
- D. 135,30 zł

Zadanie 66.

W którym dokumencie powinny być umieszczone informacje dotyczące liczby dni urlopu wypoczynkowego wykorzystanego przez pracownika?

- A. W curriculum vitae.
- B. W świadectwie pracy.
- C. W liście motywacyjnym.
- D. W kwestionariuszu osobowym.

Zadanie 67.

W tabeli przedstawiono dane konieczne do wystawienia przez dostawcę faktury dla odbiorcy. Jaką kwotę będzie musiał zapłacić odbiorca za zakupione u dostawcy towary?

Nazwa towaru	j.m.	ilość	Cena jednostkowa netto	Wartość netto	Stawka VAT%	Kwota VAT	Wartość brutto
Rower górski „Watra”	szt.	10	500,00	5 000,00	23		
Rower damski „Zefir”	szt.	10	400,00	4 000,00	23		
razem	X	X	X	9 000,00	X		

- A. 1 150,00 zł
- B. 2 070,00 zł
- C. 9 000,00 zł
- D. 11 070,00 zł

Zadanie 68.

Fragment zeznania podatkowego PIT - 37 osoby fizycznej

POLTAX

C. DOCHODY / STRATY ZE ŹRÓDEŁ PRZYCHODÓW					
C.1. DOCHODY I STRATY PODATNIKA					
Źródła przychodów	Przychód zł, gr	Koszty uzyskania przychodów zł, gr	Dochód (b - c) zł, gr	Strata (c - b) zł, gr	Zaliczka pobrana przez płatnika zł
a	b	c	d	e	f
1. Należności ze stosunku: pracy, służbowego, spółdzielczego i z pracy nakładczej, a także zasiłki pieniężne z ubezpieczenia społecznego, wypłacone przez zakład pracy	39. 55031,84	40. 1335,00	41. 53696,84	42.	43. 4162
2. Emerytury – renty oraz inne krajowe świadczenia, o których mowa w art.34 ust.7 ustawy	44.		45.		46.
3. Działalność wykonywana osobiście, o której mowa w art.13 ustawy (w tym umowy o dzieło i zlecenia)	47.	48.	49.	50.	51.
4. Prawa autorskie i inne prawa, o których mowa w art.18 ustawy	52.	53.	54.	55.	56.
5. Inne źródła, niewymienione w wierszach od 1 do 4	57.	58.	59.	60.	61.
6. RAZEM Suma kwot z wierszy od 1 do 5.	62. 55031,84	63. 1335,00	64. 53696,84		65. 4162

Osoba ta w ubiegłym roku

- A. otrzymywała emeryturę.
- B. pobierała zasiłek dla bezrobotnych.
- C. wykonywała pracę na umowę zlecenie.
- D. była zatrudniona na podstawie umowy o pracę.

Zadanie 69.

Pani Anna Kujawa została zatrudniona w hotelu na stanowisku recepcjonistki. Zaświadczenie lekarskie stwierdzające brak przeciwwskazań do pracy na tym stanowisku powinna dostarczyć pracodawcy

- A. podczas pierwszego roku pracy.
- B. przed dopuszczeniem jej do pracy.
- C. w ciągu 1 miesiąca od dnia podjęcia pracy.
- D. w ciągu 3 miesięcy od dnia podjęcia pracy.

Zadanie 70.

Wypowiedzenie przez pracodawcę umowy o pracę jest uzasadnione, jeżeli pracownik

- A. jest osobą niepełnosprawną.
- B. odmówił udziału w szkoleniu bhp.
- C. należy do związków zawodowych.
- D. jest zatrudniony w niepełnym wymiarze czasu pracy.