

Zawód: **technik organizacji usług gastronomicznych**

Symbol cyfrowy zawodu: **341[07]**

341[07]-0X-092

Wersja arkusza: **X**

Czas trwania egzaminu: 120 minut

**EGZAMIN
POTWIERDZAJĄCY KWALIFIKACJE ZAWODOWE
Czerwiec 2009**

Etap pisemny

Instrukcja dla zdającego

1. Sprawdź, czy arkusz egzaminacyjny zawiera 20 stron. Ewentualny brak stron lub inne usterki zgłoś przewodniczącemu zespołu nadzorującego.
2. Do arkusza dołączona jest KARTA ODPOWIEDZI, na której:
 - wpisz symbol cyfrowy zawodu,
 - zamaluj kratkę z oznaczeniem wersji arkusza,
 - wpisz swój numer PESEL,
 - wpisz swoją datę urodzenia,
 - przyklej naklejkę ze swoim numerem PESEL w oznaczonym miejscu na karcie.
3. Arkusz egzaminacyjny składa się z dwóch części. Część I zawiera 50 zadań, część II 20 zadań.
4. Za każde poprawnie rozwiązane zadanie możesz uzyskać 1 punkt.
5. Aby zdać etap pisemny egzaminu, musisz uzyskać co najmniej 25 punktów z części I i co najmniej 6 punktów z części II.
6. Czytaj uważnie wszystkie zadania.
7. Rozwiązania zaznaczaj na KARCIE ODPOWIEDZI długopisem lub piórem z czarnym tuszem/atramentem.
8. Do każdego zadania podane są cztery odpowiedzi: A, B, C, D. Odpowiada im następujący układ kratek na KARCIE ODPOWIEDZI:

A	B	C	D
---	---	---	---

9. Tylko jedna odpowiedź jest poprawna.
10. Wybierz właściwą odpowiedź i zamaluj kratkę z odpowiadającą jej literą – np. gdy wybrałeś odpowiedź "A":

■	B	C	D
---	---	---	---

11. Staraj się wyraźnie zaznaczać odpowiedzi. Jeżeli się pomylisz i błędnie zaznaczysz odpowiedź, otocz ją kółkiem i zaznacz odpowiedź, którą uważasz za poprawną, np.

○■	B	C	■
----	---	---	---

12. Po rozwiązaniu testu sprawdź, czy zaznaczyłeś wszystkie odpowiedzi na KARCIE ODPOWIEDZI i wprowadziłeś wszystkie dane, o których mowa w punkcie 2 tej instrukcji.

Pamiętaj, że oddajesz przewodniczącemu zespołu nadzorującego tylko KARTĘ ODPOWIEDZI.

Powodzenia!

CZĘŚĆ I

Zadanie 1.

Sommelier to pracownik

- A. odpowiedzialny za dobór win do potraw.
- B. zajmujący się robieniem sosów.
- C. odpowiedzialny za sporządzanie deserów.
- D. zajmujący się parzeniem kawy.

Zadanie 2.

Podawanie potraw ze stolika dostawczego lub wózka kelnerskiego to metoda serwowania zwana

- A. rosyjską.
- B. angielską.
- C. francuską.
- D. niemiecką.

Zadanie 3.

Kawa po staropolsku to kawa z dodatkiem

- A. cynamonu i likieru.
- B. bitej słodkiej śmietanki.
- C. żółtek utartych z cukrem.
- D. rozpuszczonej czekolady.

Zadanie 4.

Śniadanie proste to inaczej

- A. angielskie.
- B. myśliwskie.
- C. wiedeńskie.
- D. kontynentalne.

Zadanie 5.

Zupa jarzynowa – Minestra to potrawa kuchni

- A. włoskiej.
- B. rosyjskiej.
- C. węgierskiej.
- D. niemieckiej.

Zadanie 6.

Ustawienie na stole pełnego nakrycia, półmisków z zimnymi zakąskami, napojów alkoholowych i bezalkoholowych przed przybyciem gości to obsługa metodą

- A. rosyjską.
- B. francuską.
- C. angielską.
- D. niemiecką.


Zadanie 7.

Zakąska zimna, którą kelner powinien podać na lodzie to

- A. jaja mollets.
- B. kawior czarny.
- C. befsztyk tatarski.
- D. koreczki śledziowe.

Zadanie 8.

Który sposób przenoszenia szkła **nie jest poprawny?**



A.



B.



C.



D.

Zadanie 9.

Oficjalne przyjęcie organizowane w godzinach 12⁰⁰ – 13⁰⁰, na którym kelnerzy roznoszą na tacach napoje alkoholowe i bezalkoholowe oraz skromne przekąski to

- A. cocktail party.
- B. garden party.
- C. lampka wina.
- D. aperitif.

Zadanie 10.

Obrus zwisa poza brzeg stołu 25 - 30 cm. Tak nakryty stół ma zastosowanie na przyjęcie typu

- A. aperitif.
- B. lampka wina.
- C. stół angielski.
- D. bankiet zasiadany.

Zadanie 11.

Przyjęcia koktajlowe organizowane są w godzinach

- A. od 12.00 do 13.00
- B. od 14.00 do 16.00
- C. od 16.00 do 20.00
- D. od 20.00 do 24.00

Zadanie 12.

Przedstawione na rysunku naczynie służy do podawania

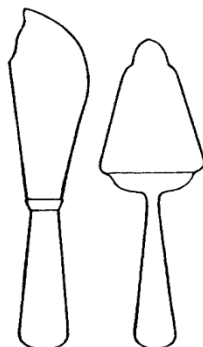
- A. sosu.
- B. śmietanki.
- C. naparu kawy.
- D. esencji herbaty.



Zadanie 13.

Na rysunku przedstawiono sztucze do krojenia i nakładania

- A. przystawek.
- B. warzyw.
- C. mięs.
- D. tortu.



Zadanie 14.

Do rozdrabniania i łączenia składników soft drinku służy

- A. młynek barowy.
- B. mikser barowy.
- C. saturator bufetowy.
- D. aparat zbiornikowy.

Zadanie 15.

Kelner nakrywając stół, przed przyjściem gości powinien przynosić sztucce

- A. na talerzu, bez użycia serwetki.
- B. bezpośrednio na tacy.
- C. na tacy wyłożonej serwetką.
- D. bezpośrednio w dłoniach.

Zadanie 16.

Z lewej strony konsumenta kelner

- A. podaje kartę menu.
- B. prezentuje wina i wódki.
- C. ustawia talerzyk do pieczywa.
- D. podaje potrawę wycelowaną na talerzu.

Zadanie 17.

Na rysunku przedstawiono serwowanie potraw metodą

- A. rosyjską.
- B. angielską.
- C. francuską.
- D. amerykańską.



Zadanie 18.

Kartoflak to charakterystyczne danie dla kuchni regionu

- A. śląskiego.
- B. podhalańskiego.
- C. wielkopolskiego.
- D. warmińsko-mazurskiego.

Zadanie 19.

Tequila to wódka gatunkowa pochodząca

- A. z Indii.
- B. z Anglii.
- C. z Japonii.
- D. z Meksyku.

Zadanie 20.

Narodowym zwyczajem Anglików jest picie herbaty o godzinie

- A. 16.00
- B. 17.00
- C. 18.00
- D. 20.00

Zadanie 21.

Trzy gwiazdki umieszczone na etykiecie butelki koniaku francuskiego oznaczają, że okres leżakowania tego trunku wynosi

- A. 3 lata.
- B. 4 lata.
- C. 5 lat.
- D. 7 lat.

Zadanie 22.

Śmietanka o zawartości 18% tłuszczu nie nadaje się do

- A. ubicia kremu.
- B. zabelania zupy.
- C. sporządzenia sosu.
- D. przygotowania koktajlu.

Zadanie 23.

Zalecana temperatura parzenia kawy wynosi około

- A. 85°C
- B. 90°C
- C. 95°C
- D. 100°C

Zadanie 24.

Dopuszczalny czas przechowywania befsztyka tatarskiego w temperaturze od 4°C do 6°C wynosi

- A. 4 godziny.
- B. 6 godzin.
- C. 8 godzin.
- D. 10 godzin.

Zadanie 25.

Piwo powinno być przechowywane w ciemnych i chłodnych pomieszczeniach w temperaturze

- A. od 0°C do 2°C
- B. od 2°C do 10°C
- C. od 12°C do 14°C
- D. od 16°C do 18°C

Zadanie 26.

Produkty zbożowe są głównym źródłem

- A. białka.
- B. witamin.
- C. tłuszczu.
- D. węglowodanów.

Zadanie 27.

Jak zapobiegać stracie witamin podczas obróbki wstępnej warzyw korzeniowych?

- A. Myć warzywa po ich obraniu.
- B. Płukać rozdrobnione warzywa.
- C. Moczyć długo warzywa po ich oczyszczeniu.
- D. Usuwać z warzyw jak najcieńszą warstwę skórki.

Zadanie 28.

Który z podanych zestawów potraw jest wskazany przy chorobie wrzodowej żołądka?

- A. Kaczka faszerowana pieczona, kluski śląskie, zielona sałata ze śmietaną.
- B. Kasza gryczana, gulasz wieprzowy, buraczki zasmażane z cebulką.
- C. Gotowane ziemniaki, sandacz w folii, marchew duszona z masłem.
- D. Frytki, kurczak z rożna, surówka z kapusty.

Zadanie 29.

Na wielkanocny stół nie podaje się

- A. karpia w galarecie.
- B. żurku świątecznego.
- C. mazurka z kajmakiem.
- D. gotowanych jaj z rzeżuchą.

Zadanie 30.

Planując jadłospis dla osoby chorej na celiakię należy wyeliminować produkty i potrawy zawierające

- A. gluten.
- B. błonnik.
- C. β -karoten.
- D. cholesterol.

Zadanie 31.

W diecie wysokobiałkowej zalecanym napojem jest

- A. herbata ziołowa.
- B. woda mineralna.
- C. sok pomidorowy.
- D. mleko spożywcze.

Zadanie 32.

Jaki napój alkoholowy można zaproponować konsumentowi do deseru?

- A. Słodki likier.
- B. Wino białe wytrawne.
- C. Wódkę czystą wyborową.
- D. Wino czerwone wytrawne.

Zadanie 33.

Do pieczonej kaczki można zaproponować konsumentowi wino

- A. białe słodkie.
- B. białe wytrawne.
- C. czerwone słodkie.
- D. czerwone wytrawne.

Zadanie 34.

Do konsumpcji pasztetu w cieście francuskim podaje się

- A. wygrzany talerzyk i nóż.
- B. wygrzany talerzyk i widelec.
- C. wygrzany talerzyk, nóż oraz widelec.
- D. wygrzany talerzyk, widelec oraz łyżkę.

Zadanie 35.

Zupę szczawiową z jajkiem podaje się

- A. w bulionówce.
- B. w szklanej czarce.
- C. w głębokim talerzu.
- D. w filiżance z uszkiem.

Zadanie 36.

Na deser owoce wieloporcjowo podaje się

- A. na talerzu.
- B. w salaterce.
- C. w gerydonie.
- D. na półmisku.

Zadanie 37.

Mazagran podaje się

- A. w małej filiżance z łyżeczką.
- B. w niskiej szklance z łyżeczką.
- C. w dużej filiżance ze słomką do picia.
- D. w wysokiej szklance ze słomką do picia.

Zadanie 38.

Zakład gastronomiczny przyjął zlecenie na zorganizowanie cocktail party. Które menu można zastosować na tym przyjęciu?

- A. Szampan, koniak, szczupak w szuwarach, zupa krem z borowików, kaczka po staropolsku, lody.
- B. Szampan, słodkie wina, kawa, herbata, sandwicze, kanapki tortowe, palone migdały, lody, tort.
- C. Whiski z lodem, gin z tonikiem, wytrawne wermuty, soki, paluszki solone, palone migdały, orzeszki, tartinki.
- D. Cocktaile alkoholowe, napoje chłodzące, orzeszki, tartinki, śliwki zawijane w boczku, pieczarki faszerowane.

Zadanie 39.

Wskaż poprawną kolejność podawania potraw podczas bankietu.

- A. Zupy, danie główne, przekąski zimne, deser.
- B. Przekąski zimne, zupy, danie główne, deser.
- C. Przekąski zimne, deser, zupy, danie główne.
- D. Danie główne, przekąski zimne, zupy, deser.

Zadanie 40.

System rozliczeń kelnerskich, który wymaga kasy, w której kelner ma swój licznik z kluczem nazywa się systemem

- A. czekowym.
- B. kas fiskalnych.
- C. kas kelnerskich.
- D. kas licznikowych.

Zadanie 41.

Prawidłowo wystawiony konsumentowi rachunek powinien zawierać następujące informacje:

- A. numer kolejny bloczku, numer kelnera, datę wystawienia, wyszczególnienie zamówionych potraw i napojów, ich ilość oraz ceny jednostkowe.
- B. dane identyfikacyjne konsumenta i kelnera, wyszczególnienie zamówionych potraw i napojów, ich ilość, ceny jednostkowe, wartość, sumę pobranej należności, datę sprzedaży i podpis kelnera.
- C. nazwę „rachunek” w treści, pieczęć zakładu, wyszczególnienie zamówionych potraw i napojów, ich ilość, ceny jednostkowe, wartość, sumę pobranej należności, datę sprzedaży i podpis kelnera.
- D. nazwę ”faktura VAT”, pieczęć zakładu, nazwy zamawianych potraw, jednostki miary, ceny jednostkowe, wartość, należny podatek VAT, podpisy zamawiającego i sprzedającego.

Zadanie 42.

W okresie ferii zimowych w zakładzie gastronomicznym wprowadzono o 30% niższe ceny na dania główne i napoje w celu zwiększenia ilości konsumentów. Jaki instrument marketingowy zastosowano?

- A. Sprzedaż osobistą.
- B. Promocję sprzedaży.
- C. Reklamę zewnętrzną.
- D. Reklamę wewnętrzną.

Zadanie 43.

W lokalu gastronomicznym wzrosła ilość skarg klientów na jakość obsługi kelnerskiej. Jakie działania należy podjąć, aby poprawić jakość obsługi?

- A. Zainwestować w reklamę.
- B. Zmienić dostawcę produktów.
- C. Przeprowadzić szkolenie personelu.
- D. Podnieść jakość przyrządzanych posiłków.

Zadanie 44.

Jaki rodzaj reklamy należy zastosować w celu masowego rozpowszechnienia informacji o działalności restauracji?

- A. Reklamę radiową.
- B. Baner reklamowy w ogródku.
- C. Pokaz umiejętności kulinarnych w restauracji.
- D. Plakat reklamowy w okolicznych sklepach spożywczych.

Zadanie 45.

Kawa, aby miała miły i intensywny aromat powinna być przechowywana

- A. w blaszanej puszcze w wilgotnym pomieszczeniu.
- B. w torebce papierowej w zaciemnionym pomieszczeniu.
- C. w opakowaniu z papieru laminowanego w nasłonecznionym pomieszczeniu.
- D. w puszcze z folii aluminiowej w suchym, zaciemnionym i chłodnym pomieszczeniu.

Zadanie 46.

Pracodawca zatrudniając pracownika na stanowisko kucharza ma obowiązek skierować go na badania

- A. wstępne.
- B. kontrolne.
- C. okresowe.
- D. specjalistyczne.

Zadanie 47.

Maksymalny czas schładzania potraw przygotowanych w technologii Cook - chill (gotuj i schłódź) wynosi

- A. 4 godziny.
- B. 6 godzin.
- C. 8 godzin.
- D. 10 godzin.

Zadanie 48.

Rozdzielenie pomieszczeń obróbki wstępnej jako „strefy brudnej” od pomieszczeń obróbki właściwej jako „strefy czystej” zapobiega

- A. przestojom czasowym
- B. wadom technologicznym.
- C. naruszeniom dyscypliny pracy.
- D. zanieczyszczeniom krzyżowym.

Zadanie 49.

Zgodnie z wymogami Dobrej Praktyki Higienicznej (GHP) i systemu HACCP, polietylenowe deski do krojenia w zależności od przeznaczenia oznaczają się odmiennym

- A. wzorem.
- B. kolorem.
- C. kształtem.
- D. symbolem.

Zadanie 50.

Pracownica podczas wykonywania pracy na stojąco w dusznym pomieszczeniu doznała omdlenia. Podczas udzielania pierwszej pomocy należy

- A. otworzyć okno, wezwać natychmiast pielęgniarkę.
- B. podać szklankę zimnej wody, ułożyć w pozycji bocznej.
- C. podać szklankę zimnej wody, ułożyć w pozycji czterokończynowej.
- D. otworzyć okno, rozluźnić odzież, ułożyć w pozycji czterokończynowej.

CZĘŚĆ II

Zadanie 51.

Pracownikiem, w rozumieniu przepisów *Kodeksu pracy*, jest osoba

- A. zatrudniona na podstawie umowy agencyjnej.
- B. posiadająca umowę o pracę nakładczą.
- C. świadcząca usługi na podstawie umowy zlecenia.
- D. zatrudniona na podstawie umowy o pracę.

Zadanie 52.

Po zapoznaniu się z fragmentem Ustawy o swobodzie działalności gospodarczej, wskaż rodzaj działalności wymagający uzyskania koncesji.

Fragment *Ustawy o swobodzie działalności gospodarczej*

Art. 46.

1. Uzyskania koncesji wymaga wykonywanie działalności gospodarczej w zakresie:

- 1) poszukiwania lub rozpoznawania złóż kopalin, wydobywania kopalin ze złóż, bezziornikowego magazynowania substancji oraz składowania odpadów w górotworze, w tym w podziemnych wyrobiskach górniczych;
- 2) wytwarzania i obrotu materiałami wybuchowymi, bronią i amunicją oraz wyrobami i technologią o przeznaczeniu wojskowym lub policyjnym;
- 3) wytwarzania, przetwarzania, magazynowania, przesyłania, dystrybucji i obrotu paliwami i energią;
- 4) ochrony osób i mienia;
- 5) rozpowszechniania programów radiowych i telewizyjnych;
- 6) przewozów lotniczych.

- A. Sprzedaż napojów alkoholowych.
- B. Sprzedaż paliwa.
- C. Wytwarzanie wyrobów tytoniowych.
- D. Przewozy kolejowe.

Zadanie 53.

Zgodnie z informacjami zawartymi w tabeli przedsiębiorca, który w ubiegłym roku obrotowym zatrudnił 9 osób i osiągnął roczny obrót netto w wysokości 3 mln euro, jest

mikroprzedsiębiorca	<ul style="list-style-type: none">• zatrudnia poniżej 10 pracowników• roczny obrót netto do 2 mln euro
mały przedsiębiorca	<ul style="list-style-type: none">• zatrudnia poniżej 50 pracowników• roczny obrót netto do 10 mln euro
średni przedsiębiorca	<ul style="list-style-type: none">• zatrudnia powyżej 50 pracowników, nie więcej niż 250 pracowników• roczny obrót netto do 50 mln euro

- A. mikroprzedsiębiorcą.
- B. małym przedsiębiorcą.
- C. średnim przedsiębiorcą.
- D. dużym przedsiębiorcą.

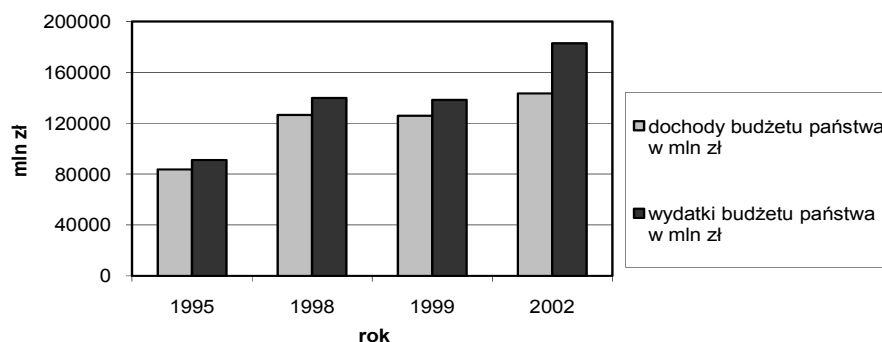
Zadanie 54.

Papierem wartościowym własnościowym, stwierdzającym uczestnictwo jego właściciela w majątku przedsiębiorstwa jest

- A. czek.
- B. weksel.
- C. akcja.
- D. obligacja.

Zadanie 55.

Diagram przedstawia dochody i wydatki budżetu państwa w wybranych latach. W którym roku deficyt budżetowy był największy?



- A. 1995
- B. 1998
- C. 1999
- D. 2002

Zadanie 56.

Pismo kandydata ubiegającego się o pracę, w którym przekonuje on pracodawcę, że jest najlepszą osobą do zatrudnienia na danym stanowisku, to

- A. list motywacyjny.
- B. świadectwo pracy.
- C. życiorys zawodowy.
- D. kwestionariusz osobowy.

Zadanie 57.

Osoba fizyczna samodzielnie prowadząca działalność gospodarczą z powodu zmiany nazwiska wymieniła dowód osobisty i zamierza dokonać aktualizacji danych w urzędzie skarbowym. Na podstawie informacji zamieszczonych w ramce wskaż formularz, który powinna wypełnić ta osoba.

- A. NIP-1
- B. NIP-3
- C. NIP-B
- D. NIP-C

NIP-1 Zgłoszenie identyfikacyjne / zgłoszenie aktualizacyjne osoby fizycznej prowadzącej samodzielnie działalność gospodarczą.

NIP-3 Zgłoszenie identyfikacyjne / zgłoszenie aktualizacyjne osoby fizycznej nieprowadzącej samodzielnie działalności gospodarczej.

NIP-B Informacja o rachunkach bankowych. Załącznik do zgłoszenia identyfikacyjnego / aktualizacyjnego osoby fizycznej prowadzącej samodzielnie działalność gospodarczą.

NIP-C Informacja o miejscach wykonywania działalności. Załącznik do zgłoszenia identyfikacyjnego / aktualizacyjnego osoby fizycznej prowadzącej samodzielnie działalność gospodarczą.

Zadanie 58.

Na podstawie informacji zawartych w tabeli wskaż, w jakiej wysokości zasiłek dla bezrobotnych otrzyma pracownik z 6-letnim stażem pracy, który został zwolniony na skutek redukcji etatów.

Staż pracy	Wysokość zasiłku
do 1 roku	0% stawki podstawowej
1 - do 5 lat	zasiłek obniżony – 80% stawki podstawowej
5 - do 20 lat	100% stawki podstawowej
20 lat i więcej	zasiłek podwyższony 120% stawki podstawowej

- A. 0% stawki podstawowej.
- B. 80% stawki podstawowej.
- C. 100% stawki podstawowej.
- D. 120% stawki podstawowej.

Zadanie 59.

Pracodawca rozwiązuje z pracownikiem umowę o pracę zawartą na 2-miesięczny okres próbny. Korzystając z zamieszczonego fragmentu Kodeksu pracy ustal okres wypowiedzenia tej umowy.

Fragment Kodeksu pracy

- A. 3 dni robocze.
- B. 2 tygodnie.
- C. 1 tydzień.
- D. 1 miesiąc.

Art. 34. § 1. Okres wypowiedzenia umowy o pracę zawartej na okres próbny wynosi:
1) 3 dni robocze, jeżeli okres próbny nie przekracza 2 tygodni,
2) 1 tydzień, jeżeli okres próbny jest dłuższy niż 2 tygodnie,
3) 2 tygodnie, jeżeli okres próbny wynosi 3 miesiące.

Zadanie 60.

Na podstawie zamieszczonego wyciągu z ustawy określ, od którego klienta zostanie przyjęte zgłoszenie reklamacji towaru niezgodnego z umową.

Wyciąg z *Ustawy o szczególnych warunkach sprzedaży konsumenckiej oraz o zmianie Kodeksu cywilnego*

Art. 7. Sprzedawca nie odpowiada za niezgodność towaru konsumpcyjnego z umową, gdy kupujący o tej niezgodności wiedział lub, oceniając rozsądnie, powinien był wiedzieć. To samo odnosi się do niezgodności, która wynika z przyczyny tkwiącej w materiale dostarczonym przez kupującego.

Art. 8. 1. Jeżeli towar konsumpcyjny jest niezgodny z umową, kupujący może żądać doprowadzenia go do stanu zgodnego z umową przez nieodpłatną naprawę albo wymianę na nowy, ...


Art. 9. 1. Kupujący traci uprawnienia przewidziane w art. 8, jeżeli przed upływem dwóch miesięcy od stwierdzenia niezgodności towaru konsumpcyjnego z umową nie zawiadomi o tym sprzedawcy. Do zachowania terminu wystarczy wysłanie zawiadomienia przed jego upływem.

Art. 10. 1. Sprzedawca odpowiada za niezgodność towaru konsumpcyjnego z umową jedynie w przypadku jej stwierdzenia przed upływem dwóch lat od wydania tego towaru kupującemu; termin ten biegnie na nowo w razie wymiany towaru. Jeżeli przedmiotem sprzedaży jest rzecz używana, strony mogą ten termin skrócić, jednakże nie poniżej jednego roku.

- A. Jakub – zachęcony niską ceną, kupił telewizor wymagający naprawy.
- B. Marta – kupiła buty w grudniu 2006 r. i w styczniu 2009 r. złożyła reklamację z powodu odklejonej podeszwy.
- C. Iwona – kupiła telefon w maju 2009 r., który po podłączeniu zgodnie z instrukcją nie działa i złożyła reklamację w czerwcu tego samego roku.
- D. Zofia – w styczniu zauważyła, że zepsuł się zamek w jej torbie podróżnej, złożyła reklamację w maju tego samego roku.

Zadanie 61.

Poznańskie Biuro Handlowe zamieściło w prasie lokalnej ofertę pracy:


poszukuje pracownika na stanowisko - Magazynier -
Od kandydatów oczekujemy: <ul style="list-style-type: none">- doświadczenia zawodowego na podobnym stanowisku,- biegłej znajomości obsługi komputera,- minimum średniego wykształcenia.
Dokumenty aplikacyjne prosimy kierować do dnia 15.06.2009 r. na adres: (...)

Która osoba spełnia oczekiwania Poznańskiego Biura Handlowego?

- A. Piotr – absolwent zasadniczej szkoły zawodowej, biegle obsługuje komputer, posiada prawo jazdy kat.B.
- B. Janek – absolwent liceum profilowanego, biegle obsługuje komputer, zna język angielski.
- C. Basia – absolwentka Politechniki Warszawskiej, biegle obsługuje komputer, zna język angielski.
- D. Paweł – absolwent technikum handlowego, biegle obsługuje komputer, posiada 3-letni staż pracy w magazynie hurtowni.

Zadanie 62.

Anna Kowalska prowadzi salon kosmetyczny w miejscowości liczącej 55 tys. mieszkańców. Zatrudnia 4 pracowników. Rozlicza się z urzędem skarbowym w formie karty podatkowej. Korzystając z danych umieszczonych w tabeli ustal wysokość miesięcznego zobowiązania z tytułu podatku dochodowego.

Tabela miesięcznych stawek podatku dochodowego w formie karty podatkowej do Ustawy z dnia 20 listopada 1998 r. o zryczałtowanym podatku dochodowym od niektórych przychodów osiąganych przez osoby fizyczne

Lp.	Zakres działalności	Oznaczenie stawek	W miejscowości o liczbie mieszkańców (wysokość stawek w złotych)		
			do 5 000	ponad 5 000 do 50 000	powyżej 50 000
1	2	3	4	5	6
88	usługi kosmetyczne	0	106	122	141
		1	282	316	350
		2	406	447	481
		3	481	525	570
		4	516	559	611
		5	559	611	697

Objaśnienia:

1. Stawki oznaczone w rubryce 3:

- "0" dotyczą działalności prowadzonej bez zatrudnienia pracowników,
- "1" dotyczą działalności prowadzonej przy zatrudnieniu 1 pracownika,
- "2" dotyczą działalności prowadzonej przy zatrudnieniu 2 pracowników,
- "3" dotyczą działalności prowadzonej przy zatrudnieniu 3 pracowników,
- "4" dotyczą działalności prowadzonej przy zatrudnieniu 4 pracowników,
- "5" dotyczą działalności prowadzonej przy zatrudnieniu 5 pracowników.

- A. 516 zł
- B. 559 zł
- C. 570 zł
- D. 611 zł

Zadanie 63.

Wynik finansowy zależy od wysokości przychodów (**P**) i kosztów (**K**) firmy. Kiedy firma przynosi straty?

- A. $P > K$
- B. $P < K$
- C. $P \geq K$
- D. $K = 0$

Zadanie 64.

Fragment Kodeksu spółek handlowych

Art. 90. § 1. Firma spółki partnerskiej powinna zawierać nazwisko co najmniej jednego partnera, dodatkowe oznaczenie „i partner” bądź „i partnerzy” albo „spółka partnerska” oraz określenie wolnego zawodu wykonywanego w spółce.

§ 2. Dopuszczalne jest używanie w obrocie skrótu „sp.p.”.

§ 3. Firma z oznaczeniem „i partner” bądź „i partnerzy” albo „spółka partnerska” oraz skrótu „sp.p.” może używać tylko spółka partnerska.

Zgodnie z *Kodeksem spółek handlowych*, którego fragment zamieszczono w ramce, spółka partnerska prowadzona przez Jana Kowalskiego i Henryka Nowaka – prawników, powinna mieć nazwę

- A. Kancelaria Prawnicza, sp.p.
- B. Kowalski, spółka partnerska.
- C. Nowak, sp.p., Kancelaria Prawnicza.
- D. Nowak i Kowalski, Kancelaria Prawnicza.

Zadanie 65.

Inwestor chce zainwestować 100 000 zł na okres 5 lat i akceptuje największe ryzyko w zamian za możliwość osiągnięcia wysokich zysków. Z której opcji inwestowania powinien skorzystać?

- A. Fundusz stabilnego wzrostu.
- B. Fundusz papierów dłużnych.
- C. Fundusz akcyjny.
- D. Fundusz zrównoważony.

Fundusze akcyjne inwestują większość lub całość środków w akcje przedsiębiorstw.

Fundusze zrównoważone inwestują około 50% środków w akcje i pozostałą część w dłużne papiery wartościowe, głównie obligacje i bony skarbowe.

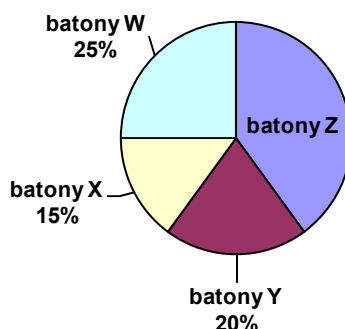
Fundusze stabilnego wzrostu większość środków inwestują w obligacje i bony skarbowe.

Fundusze papierów dłużnych inwestują głównie w obligacje.

Zadanie 66.

Przedsiębiorca produkuje cztery rodzaje batonów: W, X, Y, Z. Jaki jest udział sprzedaży batonów Z w ogólnej sprzedaży przedsiębiorstwa?

- A. 15%
- B. 25%
- C. 40%
- D. 60%



Zadanie 67.

Zamieszczone wypowiedzenie umowy o pracę zawartej na czas nieokreślony jest niezgodne z prawem, ponieważ **nie zawiera**

Wrocław, 30.03.2009 r.	
Hurtownia Artykułów Biurowych <i>DRUK</i> sp. z o.o. ul. Bardzka 3 50-540 Wrocław REGON 922103000 NIP 899 000 23 27	Pan Jan Kowalski 50 – 540 Wrocław ul. Szara 12 m.5
Rozwiązuję z Panem umowę o pracę zawartą 2.06.2005 r. z zachowaniem trzymiesięcznego okresu wypowiedzenia, który upłynie 30.06.2009 r. Jednocześnie informuję, iż w terminie 7 dni od dnia doręczenia niniejszego pisma przysługuje Panu prawo wniesienia odwołania do Sądu Rejonowego - Sądu Pracy we Wrocławiu.	
Otrzymałem 30.03.2009 r. <i>Jan Kowalski</i>	Prezes <i>Tomasz Maj</i>

- A. danych pracodawcy.
- B. przyczyny wypowiedzenia.
- C. okresu wypowiedzenia.
- D. pouczenia o prawie wniesienia odwołania do sądu pracy.

Zadanie 68.

Właściciel hurtowni sprzedał 2 telewizory opodatkowane stawką 22% VAT. Cena jednostkowa netto wynosi 1 000 zł. Jaka łączną kwotę brutto do zapłaty powinien wpisać sprzedawca na fakturze VAT?

- A. 780 zł
- B. 1 220 zł
- C. 1 560 zł
- D. 2 440 zł

Zadanie 69.

W której sytuacji pracodawca ma obowiązek wypłacić pracownikowi ekwiwalent pieniężny z tytułu niewykorzystanego urlopu?

- A. Janusz – zamiast urlopu domaga się wynagrodzenia.
- B. Mateusz – nie może wykorzystać w całości przysługującego mu urlopu, bo jego umowa o pracę uległa rozwiązaniu.
- C. Tomasz – do końca pierwszego kwartału nie wykorzystał urlopu za poprzedni rok, ponieważ odbywał ćwiczenia wojskowe.
- D. Stanisław – nie wykorzystał urlopu zgodnie z planem urlopów, ponieważ przebywał na zwolnieniu lekarskim.

Zadanie 70.

Warunki do korzystania z urlopu wychowawczego spełnia

- A. Jan – staż pracy 2 lata, umowa na czas nieokreślony.
- B. Anna – umowa zlecenie, od 6 miesięcy roznosi ulotki.
- C. Elżbieta – staż pracy 4 miesiące, umowa na czas nieokreślony.
- D. Tomasz – pierwsza praca, zatrudniony na 3-miesięczny okres próbny.

